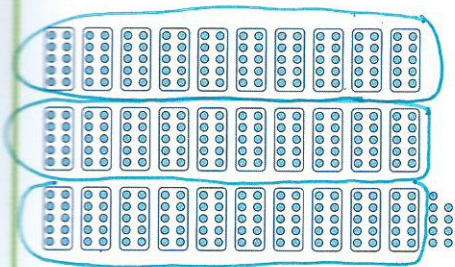


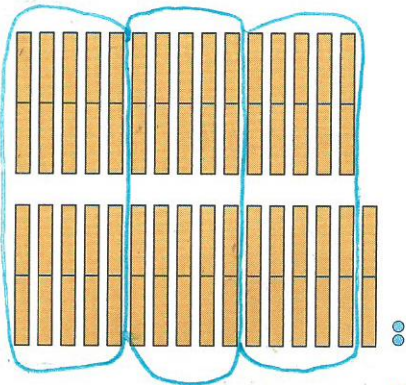
Qui a le plus de jetons en tout ? Et le moins ?  
Complète et réponds.



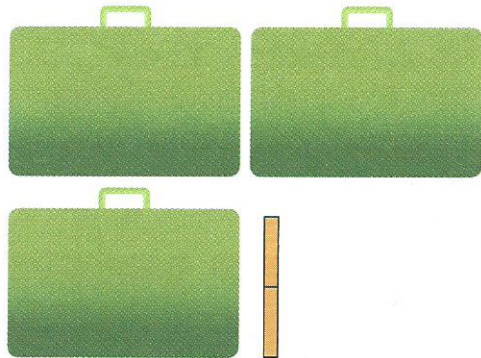
J'ai 309 jetons.



J'ai 312 jetons.



J'ai 310 jetons.



C'est Léo qui a le plus de jetons. C'est Nina qui en a le moins.