

Nombres et quantités : de 0 à 60

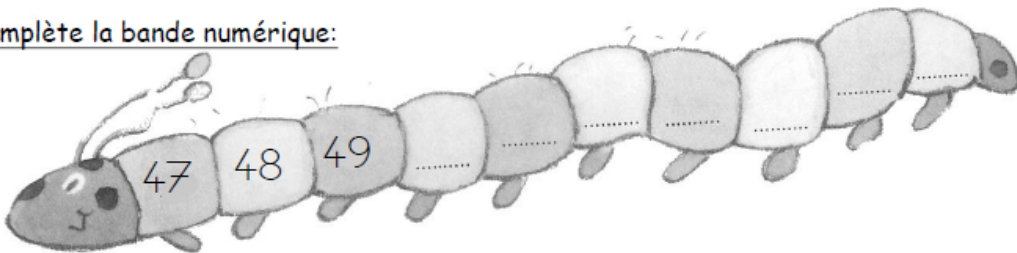


1 Complète avec le bon nombre :

Four boxes containing blocks representing numbers. Below each box is a square for the answer.

- Box 1: 4 tens rods and 1 one unit.
- Box 2: 3 tens rods and 8 one units.
- Box 3: 3 tens rods and 10 one units.
- Box 4: 4 tens rods and 1 one unit.

2 Complète la bande numérique:



Nombres et quantités : de 0 à 60

1 Complète le tableau des nombres

10		12	13	14	15	16	17	18	
	21	22	23	24			27	28	29
30	31		33		35	36		38	
	41	42		44		46			49
	51	52	53	54	55		57	58	59


2 Trouve combien Arthur a d'argent dans sa tirelire :

Illustration of Arthur standing next to a piggy bank. An arrow points from the piggy bank to a 2 Euro coin. To the left are several Euro banknotes: two 20 Euro notes, one 10 Euro note, and one 1 Euro coin.

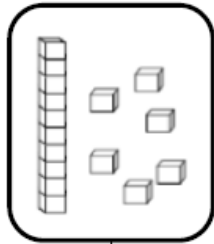
Nombres et quantités : de 0 à 60




1 Relie les nombres à leur place sur la droite graduée




2 Dessine le nombre en barres




16



56



47

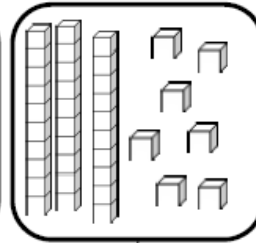
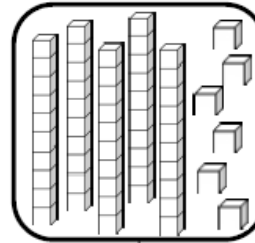
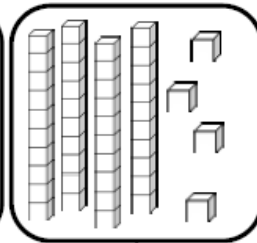
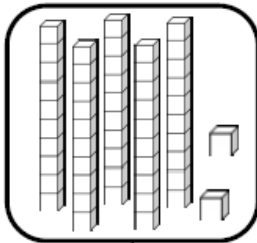


51

Nombres et quantités : de 0 à 60



1 Complète avec le bon nombre :



2 Complète la bande numérique:

