

Vendredi 15 mai CE2

Corrige les exercices de la veille.

RITUELS

- Charade de conjugaison :

Mon premier est ce que possèdent les oiseaux.

Mon second est un oiseau voleur.

Mon troisième est l'endroit où on attend le train.

Mon tout est un verbe à l'imparfait.

- Trace un rectangle de 3,5 cm de largeur et 6,3 cm de longueur.

FRANCAIS

- Dictée : Voici le lien pour la dictée du jour.

<https://www.quiziniere.com/#/Exercice/8052NR>

Apprendre la liste des mots invariables.

- Grammaire : les noms communs

Les noms communs ont un genre : **masculin** ou **féminin**. Ils ont un nombre : **singulier** ou **pluriel**.

Exemple :

un garçon : masculin, singulier

une fille : féminin, singulier

des garçons : masculin, pluriel

des filles : féminin, pluriel

Exercice 1 : Recopie les phrases en ajoutant une majuscule aux noms propres.

a) Pour aller de paris à strasbourg, le train est le plus rapide.

b) As-tu invité valentin et amélia à la soirée ?

c) Les populations des pays d'europe, d'amérique du nord, du japon et de l'australie représentent près d'un milliard d'habitants.

d) cléopatre est une reine d'égypte encore célèbre de nos jours.

Exercice 2 : Pour chaque nom, indique son genre et son nombre.

Exemple : une baguette : féminin singulier

une sculpture - des dinosaures - des pierres - un orage - des expositions - une attraction -
des manèges - un artiste - une cheminée

Exercice 3 (facultatif) :

Recopie les sept noms communs du texte et indique pour chacun s'il est masculin ou pluriel.

Exemple : père --> masculin singulier

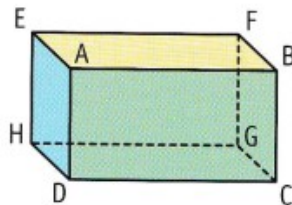
Mon père a acheté une nouvelle voiture. Elle a un grand coffre dans lequel nous pouvons mettre mon vélo. La commande des vitres est électrique et il y a même un autoradio !

MATHEMATIQUES

- Géométrie : les solides

Exercice 1 :

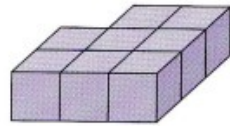
Observe ce solide, puis réponds en nommant les lettres.



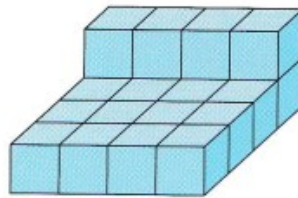
- Quelle face est opposée à EFGH ?
- Quel sommet est commun aux faces jaune, verte et bleue ?
- Quelle arête est commune aux faces bleue et verte ?

Exercice 2 :

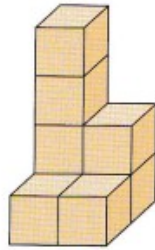
a. Le petit frère de Nassim a fait des constructions avec des cubes. Indique le nombre de cubes de chaque construction.



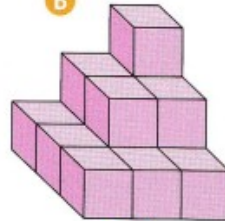
A



B



C



D

b. Pour la construction A, il veut recouvrir toutes les faces visibles des cubes avec du papier argenté. Combien de faces doit-il recouvrir ?

ANGLAIS

Nous allons commencer un travail autour d'un album.
Celui-ci nous permettra de reprendre / apprendre des notions en vocabulaire et grammaire.
Ce travail étant interactif, rendez-vous à l'adresse suivante.

<https://view.genial.ly/5e7354e5303b510f7b8af32d>

EPS

Voici quelques idées pour faire du sport à plusieurs à la maison :

https://www.youtube.com/watch?time_continue=18&v=e4RNJ_0TQOI&feature=emb_logo