

**Vendredi 10 avril**  
**CE2**  
**Correction**

RITUELS

- Conjugue les verbes "promettre" et "débarasser" à toutes les personnes de l'imparfait.
- Pose et calcule :

8 561 x 45  
6 303 x 57


FRANCAIS

- Dictée

--> Voici le lien vers la dictée 22 :

<https://www.quiziniere.com/#/Exercice/P85KW4>

- Conjugaison : l'imparfait

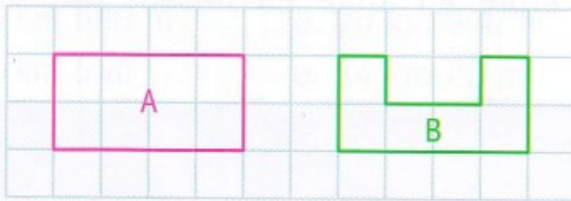


## MATHEMATIQUES

- Grandeurs et mesures : le périmètre

Réalise les exercices suivants. Laisse les calculs de périmètre apparents.

**1** \* Quelle figure a le plus grand périmètre ?

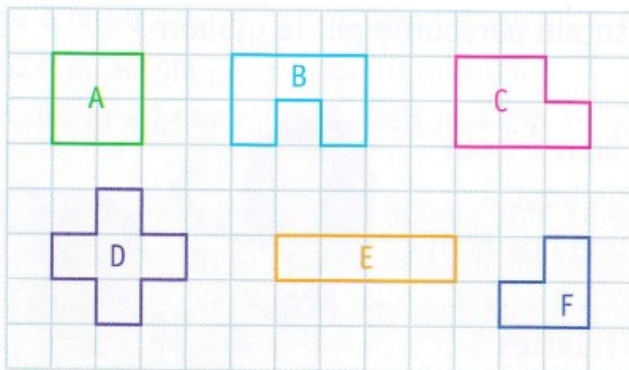


$$A = 4 + 2 + 4 + 2 = 12 \text{ carreaux}$$

$$B = 1 + 1 + 2 + 1 + 1 + 2 + 4 + 2 = 14 \text{ carreaux}$$

La figure B a le plus grand périmètre.

**2** \*\* Associe deux à deux les figures qui ont le même périmètre.



$$A) 2 + 2 + 2 + 2 = 8 \text{ carreaux}$$

$$B) 3 + 2 + 1 + 1 + 1 + 1 + 1 + 2 = 12 \text{ carreaux}$$

$$C) 2 + 1 + 1 + 1 + 3 + 2 = 10 \text{ carreaux}$$

$$D) 1 + 1 + 1 + 1 + 1 + 1 + 1 + 1 + 1 + 1 + 1 + 1 = 12 \text{ carreaux}$$

$$E) 4 + 1 + 4 + 1 = 10 \text{ carreaux}$$

$$F) 1 + 2 + 2 + 1 + 1 + 1 = 8 \text{ carreaux}$$

On forme les paires suivantes : A et F, B et D, C et E.

Vendredi 10 avril

Mathématiques

Correction

CE2

$$\begin{array}{r} \textcircled{2} \quad \textcircled{2} \\ \textcircled{7} \quad \textcircled{8} \\ 8561 \\ \times \quad 45 \\ \hline 42805 \\ + 342440 \\ \hline 385245 \end{array}$$

CE2 - CM1

$$\begin{array}{r} \textcircled{7} \quad \textcircled{7} \\ \textcircled{4} \quad \textcircled{3} \\ 6303 \\ \times \quad 57 \\ \hline 44121 \\ + 315150 \\ \hline 359271 \end{array}$$

CM1

$$\begin{array}{r} \overbrace{1435} \\ - \underline{121} \\ 023 \\ - \underline{18} \\ 055 \\ - \underline{54} \\ 01 \end{array} \quad \begin{array}{r} 6 \\ \hline 239 \end{array}$$

$$\begin{array}{r} \overbrace{6442} \\ - \underline{63} \\ 14 \\ - \underline{14} \\ 002 \\ - \underline{00} \\ 02 \end{array} \quad \begin{array}{r} 7 \\ \hline 920 \end{array}$$