

Mercredi 15 avril
CE2
Correction

FRANCAIS

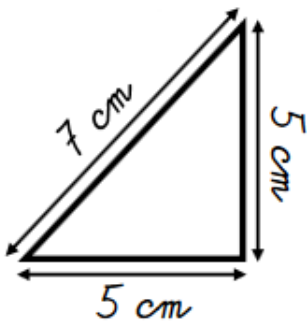
Exercice 1 : Conjugue au futur.

- a) Il calculera une addition. (calculer)
- b) Tu finiras tes devoirs. (finir)
- c) Vous étudierez votre leçon. (étudier)
- d) Les oiseaux siffleront sur la branche. (siffler)
- e) Magaly obéira à sa maman. (obéir)
- f) Nous fleurirons la table avec des roses. (fleurir)
- g) Les pigeons picoreront des graines. (picorer)
- h) Les chevaux franchiront le fossé. (franchir)
- i) Je clouerais des planches. (clouer)
- j) Tu fermeras les portes. (fermer)

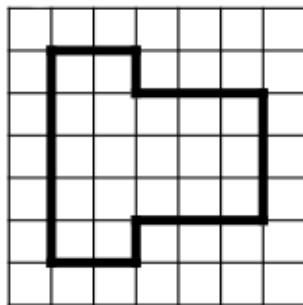
MATHEMATIQUES

- Grandeurs et mesures : le périmètre

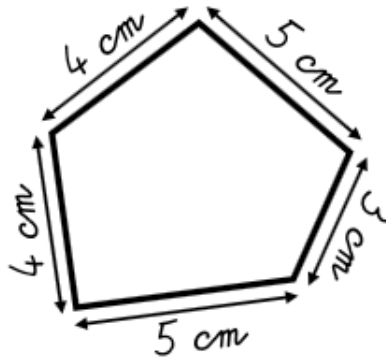
Exercice 1 : Calcule le périmètre de chacune de ces figures.



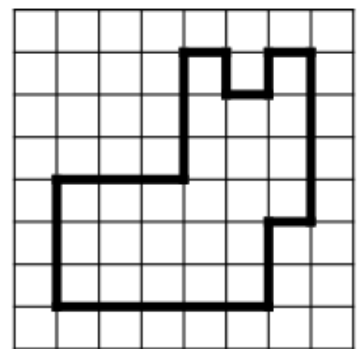
$$P = 7 + 5 + 5 = 17$$
$$P = 17 \text{ cm}$$



$$P = 2 + 1 + 3 + 3 + 3 + 1$$
$$P = 20 \text{ carreaux}$$



$$P = 4 + 5 + 3 + 5 + 4 = 21$$
$$P = 21 \text{ cm}$$




$$P = 1 + 1 + 1 + 1 + 1 + 4 + 1$$
$$P = 2 + 5 + 3 + 3 + 3 = 26$$
$$P = 26 \text{ carreaux}$$

ANGLAIS



- a) a scarf
- b) a hat
- c) gloves



- a) a cap
- b) a hat
- c) a coat



- a) a dresse
- b) a coat
- c) a jacket



- a) gloves
- b) pants
- c) a hat



- a) a hat
- b) a scarf
- c) a cap



- a) a jacket
- b) a coat
- c) a cardigan



- a) a dress
- b) a skirt
- c) a cardigan

Mardi 15 avril
Correction

CE2

$$\begin{array}{r} \textcircled{1} \quad \textcircled{2} \\ 9213 \\ \times \quad 46 \\ \hline \textcircled{1} 55278 \\ + \textcircled{1} 368520 \\ \hline 423798 \end{array}$$

$$\begin{array}{r} \textcircled{4} \quad \textcircled{2} \\ \textcircled{1} \quad \textcircled{1} \quad \textcircled{1} \\ 7835 \\ \times \quad 52 \\ \hline \textcircled{1} \quad \textcircled{1} \quad \textcircled{1} \\ 15670 \\ + \textcircled{1} 391750 \\ \hline 407420 \end{array}$$

CM1

$$\begin{array}{r} \overbrace{5410} \\ - 49 \downarrow \downarrow \\ \hline 051 \downarrow \downarrow \\ - 49 \downarrow \\ \hline 020 \\ - 14 \\ \hline 06 \end{array} \quad \begin{array}{l} 7 \\ \hline 772 \end{array}$$

$$\begin{array}{r} \overbrace{4917} \\ - 45 \downarrow \downarrow \\ \hline 041 \downarrow \downarrow \\ - 36 \downarrow \\ \hline 057 \\ - 54 \\ \hline 03 \end{array} \quad \begin{array}{l} 9 \\ \hline 546 \end{array}$$