

## Mardi 9 juin

### CE2

#### RITUELS

Trouve de qui ou de quoi on parle dans le texte.  
Puis colorie chaque étiquette en respectant les couleurs indiquées.

date: .....

Maman et papa sont adorables, mais ils sont très distraits. Eh oui, mes parents sont toujours dans la lune! Quand mon père va faire des courses, il oublie la moitié de la liste. Et quand ma mère lui dit: « Stéphane, as-tu acheté des poires? », il répond: « Oh, zut, j'ai oublié! »  
Puis il ajoute: « Mais Carine, est-ce que tu l'avais écrit sur la liste de courses? »  
« Ah, sapristi! j'avais oublié aussi! » Quels étourdis!

- Trace un carré de 6,5 cm de côté.

#### FRANCAIS


- Dictée : Faire la dictée du jour (document en pièce jointe)

Apprendre les cinq premiers noms communs.

- Conjugaison : Révisions

Complète ces mots casés en t'aidant des définitions.

# Conjugaison en folie



## Horizontal

- 1 nous (déplier), futur
- 3 on (venir), futur
- 5 nous (publier), imparfait
- 6 vous (finir), présent
- 7 je (oublier), présent
- 10 tu (manger), imparfait
- 12 je (découvrir), futur
- 14 ils (repasser), futur
- 15 nous (être), imparfait

## Vertical

- 2 vous (prendre), imparfait
- 4 j' (assombrir), présent
- 8 j' (aller), futur
- 9 ils (épaissir), imparfait
- 11 elles (dormir), présent
- 13 tu (dormir), futur

## MATHEMATIQUES

- Organisation des données : Organiser les données dans un graphique

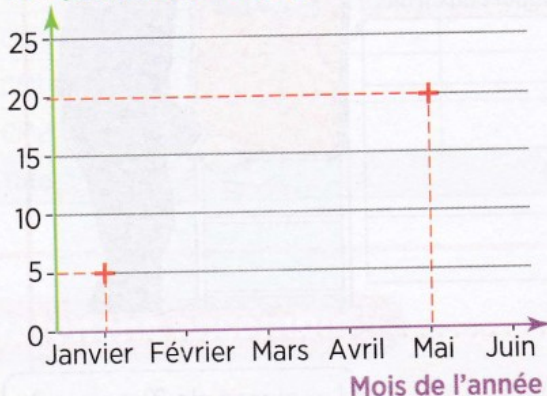
### Exercice 1

1 Voici le relevé mensuel des températures de la cour de l'école.

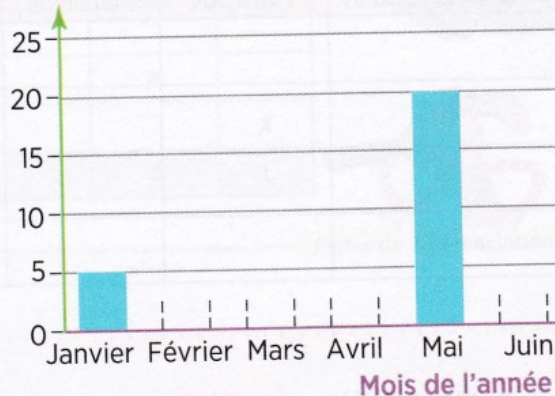
Mois	Janvier	Février	Mars	Avril	Mai	Juin
Température (en degré)	5	0	5	10	20	25

- Complète les graphiques.

Température (en degré)



Température (en degré)




## Exercice 2 :

**Complète** le graphique du nombre de livres lus.

### Lis les informations

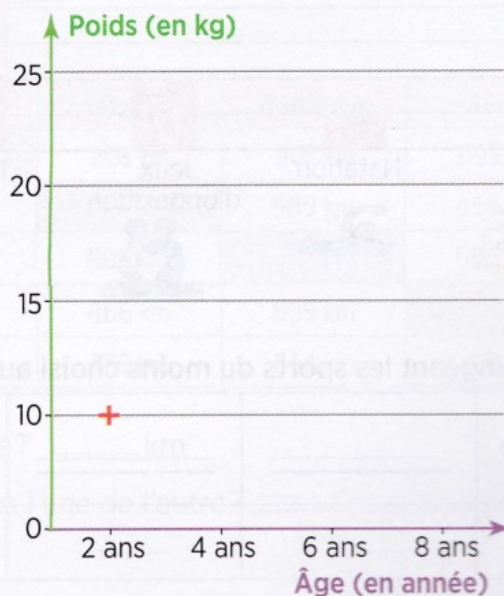
- Cette année, Malika et Sami ont chacun lu 6 livres.
- Lisa en a lus 2 de plus.
- Hugo a choisi des livres plus gros mais a lu moitié moins de livres que Sami.



## Exercice 3 :

**Place** les points et **trace** la courbe.

Évolution du poids de Lisa				
Âge (en an)	2	4	6	8
Poids (en kg)	10	15	20	25



Croise l'axe de l'âge avec celui du poids!



QUESTIONNER LE MONDE

--> Espace

Après avoir parlé de la Station Spatiale Internationale, restons la tête dans les étoiles !

Nous voilà à la découverte du système solaire.

Regarde la vidéo suivante puis réponds aux questions :

<https://www.youtube.com/watch?v=shQJd3oGYn8>

## LE SYSTEME SOLAIRE



Qu'est- ce que le système solaire ?

C'est l'ensemble du Soleil et des astres (en particulier des planètes) qui gravitent (tournent) autour de lui.

1) Qu'apporte le Soleil ?

.....

2) Combien y a t-il de planètes en orbite autour du Soleil ? .....

3) Quelle est la plus petite planète du système solaire ? .....

4) Quelle est la plus petite planète du système solaire ? .....


5) Pourquoi la Terre est-elle spéciale ?

.....

.....



Place le nom des planètes au bon endroit (tourne la feuille).



Récris le nom des planètes dans l'ordre de proximité par rapport au soleil.

	SOLEIL
1	
2	
3	
4	
5	
6	
7	
8	

Voici une phrase pour te souvenir de l'ordre des planètes :

Mon Vieux Toutou Médor  
Joue Sur Un Nuage

