

Chers parents et mes chers élèves,

Si vous désirez m'envoyer des photos du travail que vous faites sur ma boîte mail n'hésitez pas.

Voici le travail du Mardi 17 mars :

Rituels : sur le cahier vert

Rituel de conjugaison :

Conjuguer à l'imparfait les verbes à toutes les personnes : se satisfaire, faire, taire, dormir, salir, fuir, être

Si vous avez besoin d'aide, ne pas oublier de relire les leçons sur l'imparfait dans le classeur ou visionner cette vidéo :

<https://www.youtube.com/watch?v=VjojOtTBbl4>

Calculs : à poser et à résoudre sur le cahier vert

Cm1	Cm2
$26\ 309 - 5\ 689 =$	$456\ 398 - 47\ 856 =$
$5\ 806 \times 315 =$	$253\ 609 - 174\ 826 =$
$75\ 639 - 28\ 960 =$	$86\ 305 / 5 =$
$45\ 201 \times 56 =$	$39\ 628 / 8 =$

Anglais : recopier sur le cahier vert et traduire :

A carrot cake, a cheese, a cauliflower, a leek, a mango

Mathématiques :

Résoudre les problèmes de partage suivants sur le cahier vert : Chaque problème doit contenir un calcul et une phrase réponse.

- 1) Marie a 12 œufs et 3 paniers. Elle met le même nombre d'œufs dans chaque panier. Combien d'œufs y a-t-il dans chaque panier?
- 2) Combien d'étages y a-t-il dans un hôtel de 240 chambres si chaque étage a 24 chambres chacun?
- 3) Combien de chambres y a-t-il sur chaque étage d'un hôtel de 240 chambres qui comporte 24 étages? Chaque étage a le même nombre de chambres.
- 4) Mme Boyer veut acheter d'autres crayons pour sa classe. Dans la classe, il y a 6 tables sur lesquelles elle entrepose les crayons. Si elle en achète 186, combien de crayons va-t-elle distribuer également à chaque table?

De plus, les crayons se vendent dans des boîtes de 6. Elle aimerait aussi savoir combien de boîtes acheter.

- 5) Toute l'école s'en va voir une pièce de théâtre. Il faut réserver des autobus. Sachant que chaque autobus peut contenir 50 personnes, combien d'autobus faut-il pour 372 personnes?
- 6) Il y a des soldes chez « Musico ». Les disques compacts se vendent 12 € chacun taxes comprises. Combien peut-on en acheter avec 40 €?
- 7) Mme Picasso a commandé 300 pots de peinture pour l'école. Elle veut les distribuer également aux 18 salles de classe. Combien chaque classe recevra-t-elle de pots?
- 8) Trois amis ont 15 tâches à faire en tout. S'ils partagent les tâches également, combien chaque ami a-t-il de tâches?
- 9) Avec des blocs, Monique a construit 2 tours identiques. Elle a utilisé 110 blocs. Combien de blocs y a-t-il dans chaque tour?
- 10) Sylvie a 4 photos sur chaque page de son album. Il y a 24 photos en tout. Combien de pages y a-t-il dans son album?

Anglais

Visionner les vidéos suivantes : <https://www.youtube.com/watch?v=8Cn2FC6qDqQ>
<https://www.youtube.com/watch?v=Wa0DL3B-AM>













Conjugaison

Réaliser l'exercice suivant : Conjuguer les verbes entre parenthèses à l'imparfait. Les phrases sont à recopier dans le cahier vert. Les CM1 ne font que les 6 premières phrases.

1. Je (prendre) congé : je (être) fatigué.
2. Si tu (vouloir), tu (pouvoir) arriver tôt.
3. Elle (mettre) son manteau et elle (aller) au cinéma.
4. Ils (prendre) des vacances en été.
5. Il (devoir) téléphoner quand il (recevoir) des nouvelles.
6. Vous (étudier) bien et vous (réussir) facilement.
7. Nous (commencer) un nouveau cours.
8. Ils (venir) souvent nous visiter.
9. Vous (faire) de l'exercice physique.
10. Tu (tousser) continuellement.

Géographie

Remplir le tableau et colorier les drapeaux.

Drapeau	Pays	Capitale	Drapeau	Pays	Capitale
	Allemagne			Lettonie	
	Autriche			Lituanie	
	Belgique			Luxembourg	
	Bulgarie			Malte	
	Chypre			Pays Bas	
	Danemark			Pologne	

Sciences

Visionner la vidéo suivante : <https://vimeo.com/user36345481/videos-dexperiences-odysseo-sciences-and-technologie-cm1-cm2/video/261796253>

Pour l'activité suivante, les réponses aux questions sont à écrire sur le cahier vert.

Activité 1 :

Doc. 1 Sur un tapis roulant

Denis, immobile sur le sol, regarde Abou, Elena, Bob et Caroline qui sont sur le tapis roulant d'un aéroport.

Abou et Elena discutent, ils ne marchent pas.

Bob marche dans le sens de roulement du tapis pour sortir plus tôt.

Caroline marche dans l'autre sens, en s'amusant à rester tout le temps à la même hauteur que Denis.



1. Pour chacun des cinq personnages, recopie et complète le texte qu'il pourrait prononcer :
« Je m'appelle..., je vois... en mouvement et je vois ... immobile(s) ».
2. À l'aide des réponses précédentes, montre qu'un même objet peut être à la fois immobile et en mouvement.



Rédige une phrase indiquant ce qu'il faut préciser lorsque l'on décrit le mouvement d'un objet.