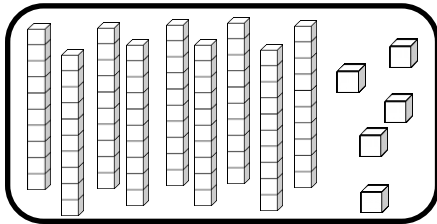
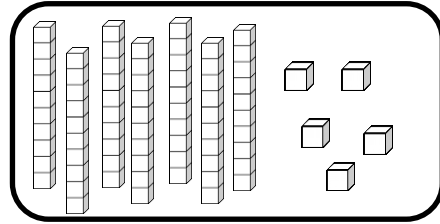


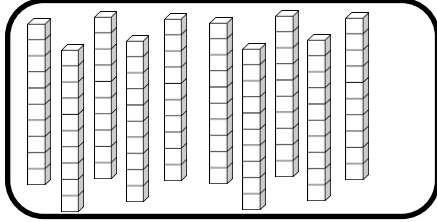
Nombres et quantités : de 0 à 100

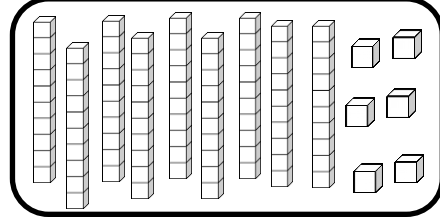


1 Complète avec le bon nombre :

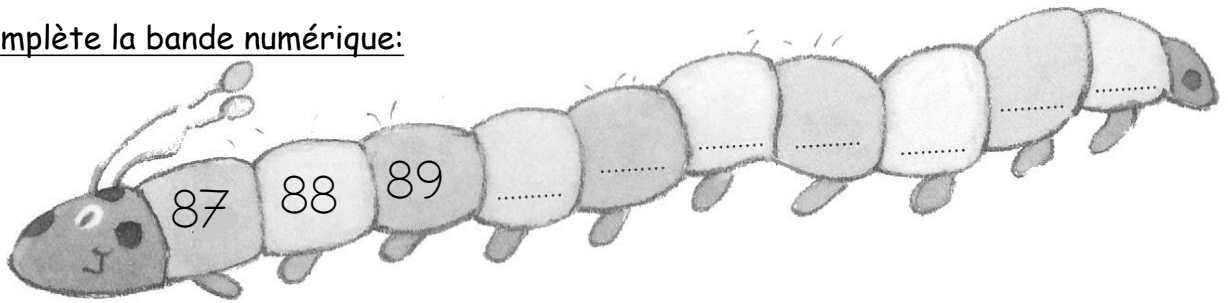








2 Complète la bande numérique:



Nombres et quantités : de 0 à 100

1 Complète les cases grises du tableau des nombres

	51								
						66			
		72							
80					85				
									99

2 Colorie les pièces et billets correspondants à la somme dans la tirelire :

