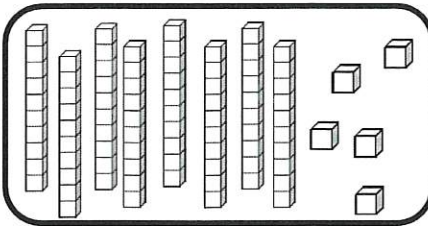


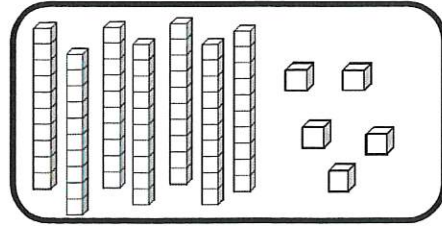
Nombres et quantités : de 0 à 90



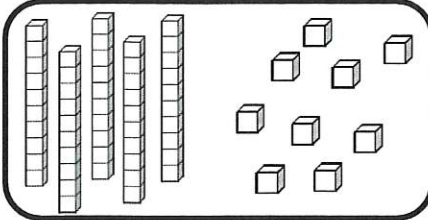
1 Complète avec le bon nombre :



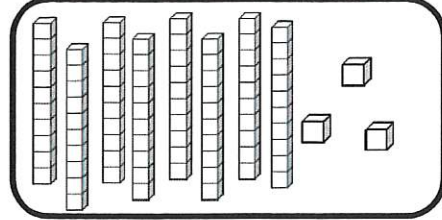
85



75




59



83

2 Complète la bande numérique:



Nombres et quantités : de 0 à 90

1 Complète les cases grises du tableau des nombres

	41			44			47		
50		52				56			59
		62				66			
70			73		75			78	
	81						87		89

2 Colorie les pièces et billets correspondants à la somme dans la tirelire :

