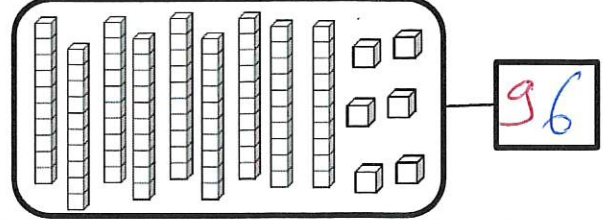
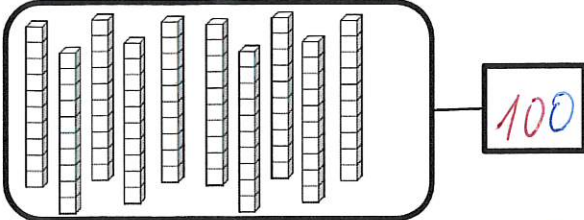
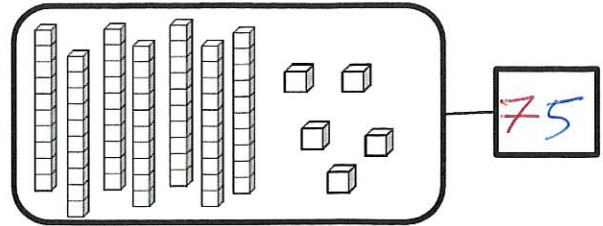
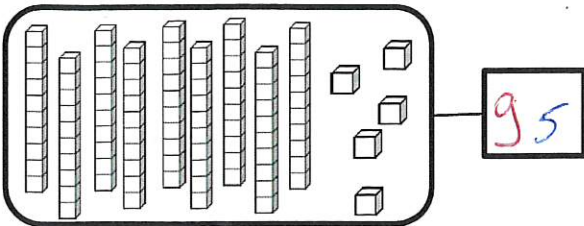



Nombres et quantités : de 0 à 100



1 Complète avec le bon nombre :



2 Complète la bande numérique:



Nombres et quantités : de 0 à 100

1 Complète les cases grises du tableau des nombres

	51			54			57		
60		62				66			69
		72				76			
80			83		85			88	
	91						97		99

2 Colorie les pièces et billets correspondants à la somme dans la tirelire :

