

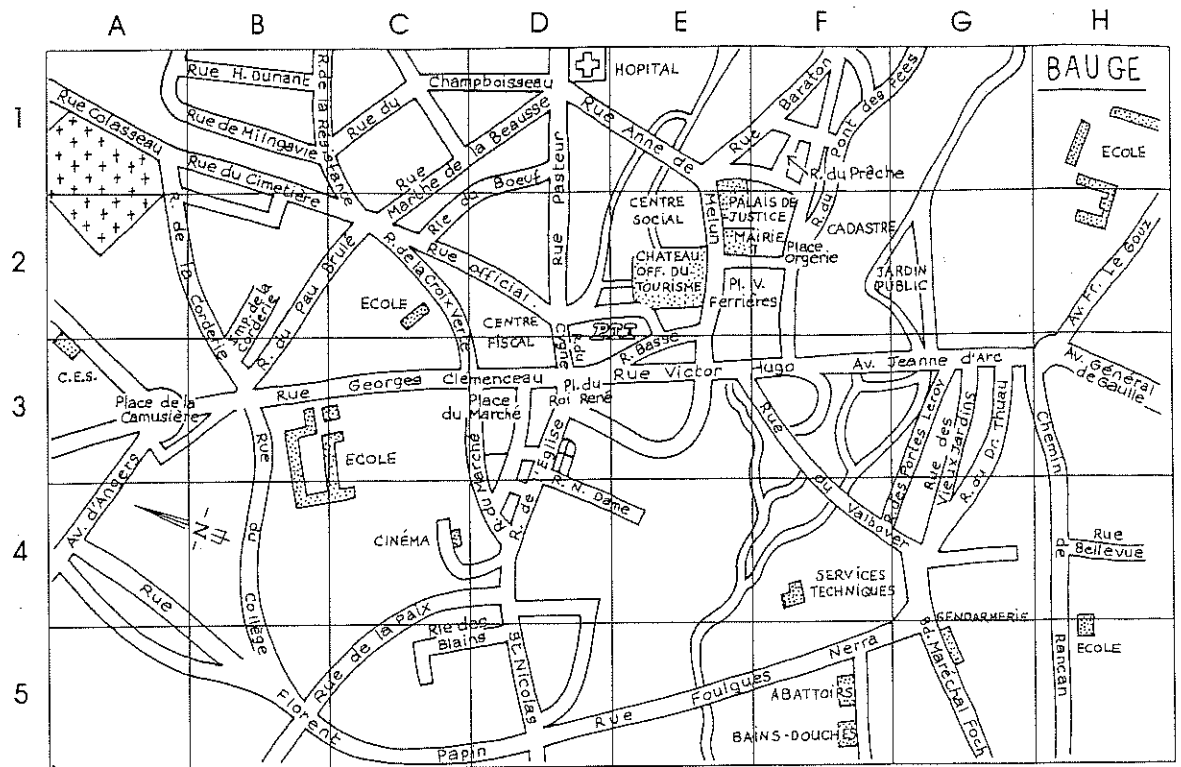
Nom : _____

Date : _____

INFORMATION

Dans cette fiche, tu vas devoir te repérer en utilisant les cases d'un quadrillage.

Voici le plan de la ville de Baugé (Maine-et-Loire)



1 Indique dans quelle case se trouve :

- Le C.E.S. : (____, ____)
- La gendarmerie : (____, ____)
- Le cinéma : (____, ____)
- Les services techniques : (____, ____)
- La place de la Camusière : (____, ____)
- Les abattoirs : (____, ____)
- Les bains-douches : (____, ____)
- Le cadastre : (____, ____)
- La poste (P.T.T.) : (____, ____)
- L'office du tourisme : (____, ____)


2 Entoure en rouge l'école qui se trouve en (H, 5).

3 Colorie en rouge la rue du Prêche qui se trouve en (E, 1).

4 Colorie en vert la rue Marthe-de-la-Beausse et indique dans quelles cases elle se trouve.

(____, ____) (____, ____) (____, ____)

5 Colorie en bleu le trajet pour aller de la gendarmerie à la poste. Indique les cases que tu as traversées.



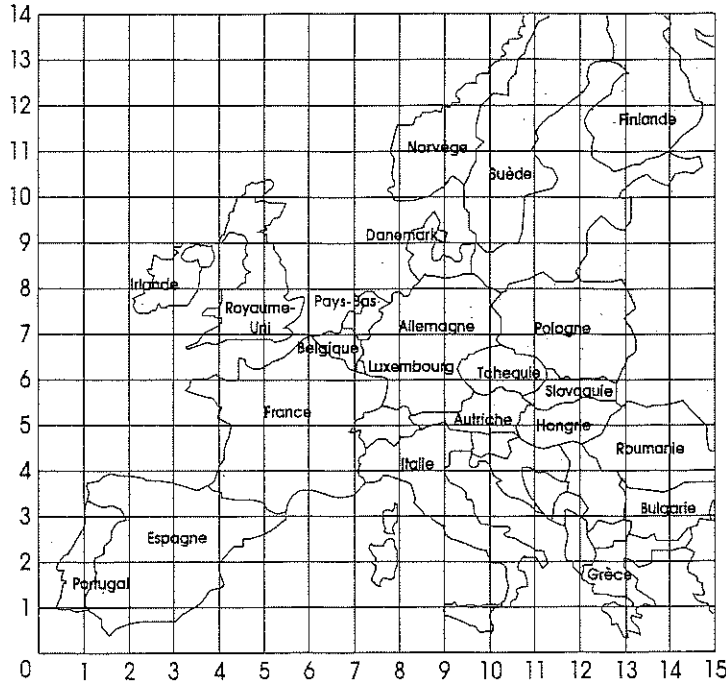
Nom : _____

Date : _____

INFORMATION

Dans cette fiche, tu vas devoir te repérer en utilisant les nœuds d'un quadrillage.

1 Des touristes français sont partis en vacances à l'étranger.



Marque sur le quadrillage leur lieu de séjour et indique dans le tableau le nom du pays dans lequel ils ont séjourné.

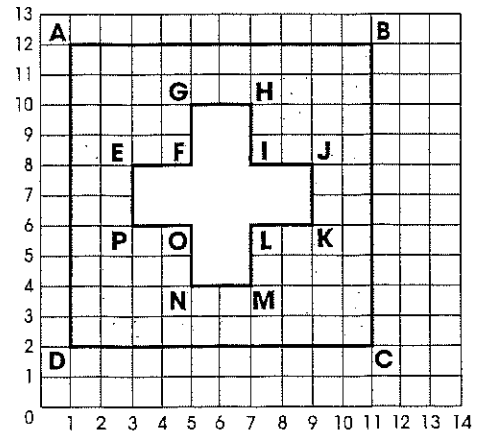
	Pays
A (5,8)	_____
B (11,5)	_____
C (13,2)	_____
D (10,10)	_____
E (9,7)	_____
F (3,2)	_____
G (9,3)	_____
H (11,7)	_____

2 Voici le drapeau d'un pays européen. Écris le code de chaque point.

- A (__, __) G (__, __) L (__, __)
- B (__, __) H (__, __) M (__, __)
- C (__, __) I (__, __) N (__, __)
- D (__, __) J (__, __) O (__, __)
- E (__, __) K (__, __) P (__, __)
- F (__, __)

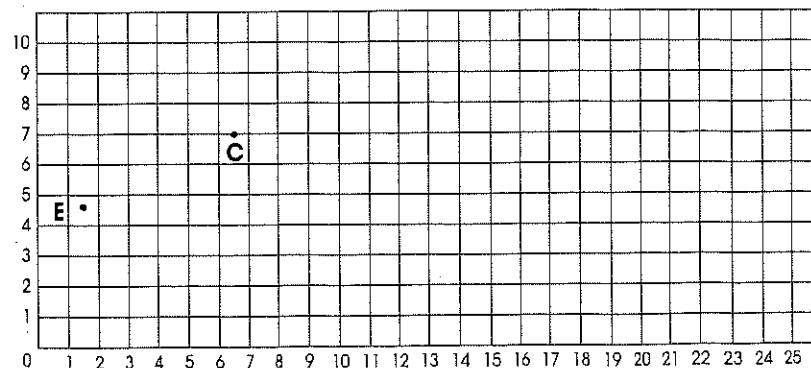
Colorie en rouge la partie grisée.

C'est le drapeau _____.



3 Place les points : A (7,9) ; B (8,8) ; D (3,4) ; F (10,10) ; G (18,4) ; H (9,5) ; I (5,3) ; J (8,2) ; K (12,3) ; L (16,2) ; M (20,3) ; N (15,6) ; O (21,7) ; P (25,4) ; Q (22,3).

Trace les segments : AB, AC, AE, FD, FG, FH, HI, HJ, HK, NK, NL, NM, OG, OQ, OP, EJ, JK, KL, LM, GQ et QP. Tu obtiens un site archéologique très connu.



Écris le nom du pays dans lequel il se trouve :

