

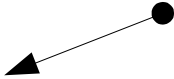
Le polygone a quatre côtés, c'est un :

Quadrilatère



Les côtés sont parallèles deux en deux, c'est un :

Parallélogramme



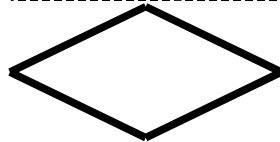
Il a quatre angles droits, c'est un :

rectangle




Les quatre côtés ont la même longueur, c'est un :

losange



Il a quatre angles droits et les côtés ont la même longueur, c'est un :

carré



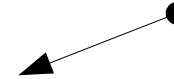
Le polygone a quatre côtés, c'est un :

Quadrilatère



Les côtés sont parallèles deux en deux, c'est un :

Parallélogramme



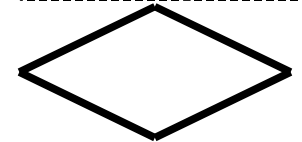
Il a quatre angles droits, c'est un :

rectangle



Les quatre côtés ont la même longueur, c'est un :

losange



Il a quatre angles droits et les côtés ont la même longueur, c'est un :

carré

