

Prénom :

Plan de travail 6 : jeudi 2 avril. Document à rendre à la maîtresse. Page 1.

1) **Production écrite** : produire trois phrases en utilisant des mots surlignés de la fiche 021.

1) _

2) _

3) _

2) Etude de la langue :

*Remets les mots dans l'ordre et réécrit la phrase correctement. N'oublie pas de rajouter la majuscule en début de phrase et le point en fin de phrase.

disparaître	magicien	chapeau	le	fait	pigeon	son	un	dans
-------------	----------	---------	----	------	--------	-----	----	------



*Sépare les mots de cette phrase et réécrit la phrase correctement.

Toutceventnevapasdérangerlagirouettesurleclocherduvillage.



3) Conjugaison :

A) Remplace les groupes sujets par un pronom personnel sujet, puis conjugue le verbe au présent.

*Le bûcheron (.....) (couper) du bois dans la forêt.

*Les vaches (.....) (brouter) l'herbe du pâturage.

*Papi (.....) (bricoler) dans le jardin.

*Lucie (.....) (étaier) la pâte dans le moule.

Prénom :

Plan de travail 6 : jeudi 2 avril. Document à rendre à la maîtresse. Page 2.

B) Conjugue les verbes au présent. Observe bien le sujet pour conjuguer le verbe correctement. Tu peux remplacer le groupe sujet par un pronom personnel sujet pour t'aider dans la 1^{ère} phrase.

Les papillons (se poser) sur le bourgeon.

Nous (acheter) des gilets car il fait froid.

Tu (ranger) ton garage.

Vous (bouger) les cages des pigeons.

4) Code : le son [3].

Recopie seulement les mots où tu entends le son [3] et entoure le son [3]. *-j... -ge... gi...*

une girouette – du gui – une page – magique – la langue – gentil – un gâteau – une image – un régime – un garage

5) Grammaire/orthographe : faire la fiche n° 4 « le féminin des noms ». Voir pièce jointe donnée pour le mardi 31 mars.

Mathématiques:

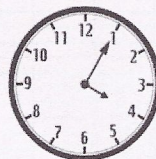
CE₁

Lecture de l'heure

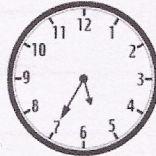
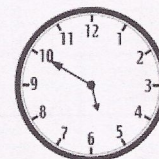
Fiche d'exercices

Relie la montre avec l'heure indiquée :

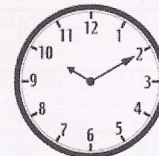
2 Relie la montre avec l'heure indiquée



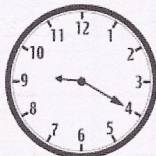
5 heures 35 minutes



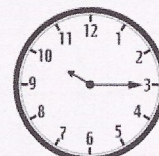
22 heures 10 minutes



17 heures 50 minutes



10 heures 15 minutes



9 heures 20 minutes


16 heures 5 minutes

3 Dessine la ou les aiguilles sur les montres


Dessine les aiguilles :

→ H min

Il est 3 heures 40 minutes.



Il est 7 heures 20 minutes.



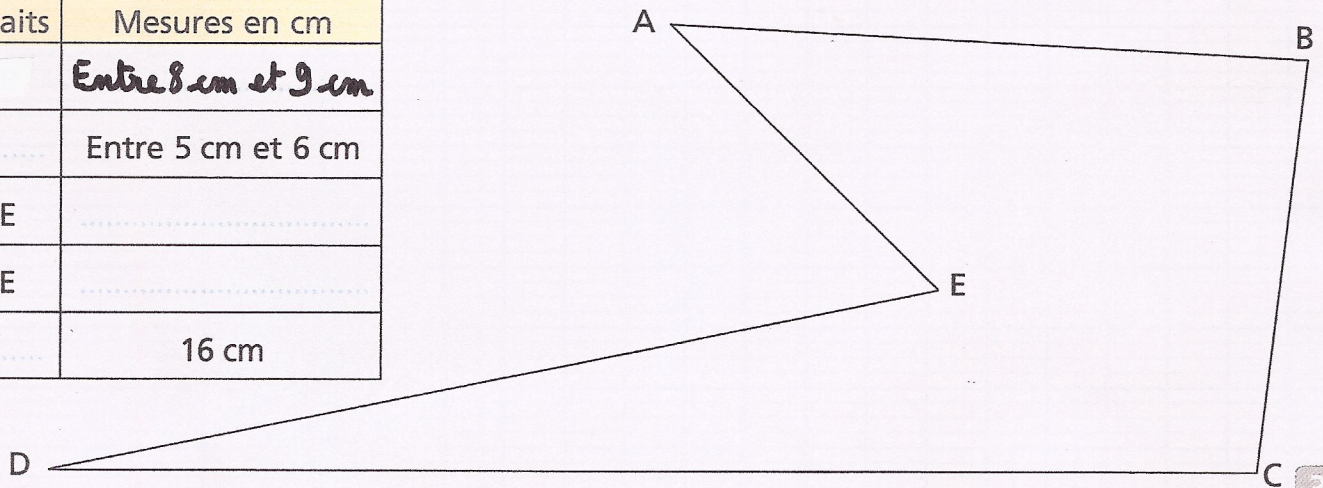
Prénom :

Plan de travail 6 : jeudi 2 avril. Document à rendre à la maîtresse. Page 3.

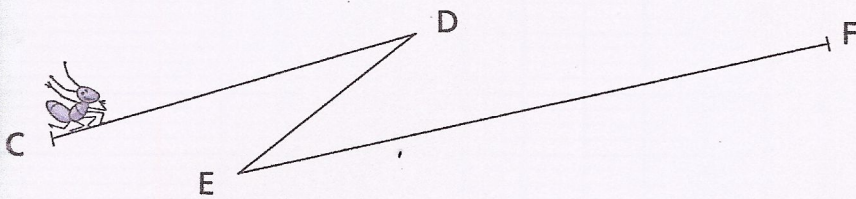

Mathématiques (Suite).

Mesure les traits en cm et complète le tableau.

Traits	Mesures en cm
	Entre 8 cm et 9 cm
	Entre 5 cm et 6 cm
DE
AE
	16 cm



La fourmi rouge parcourt le trait AB et la fourmi noire la ligne brisée CDEF.
Qui va parcourir le plus long chemin ?



AB mesure cm.

CD mesure cm.

DE mesure cm.

EF mesure cm.

La ligne brisée CDEF mesure cm.


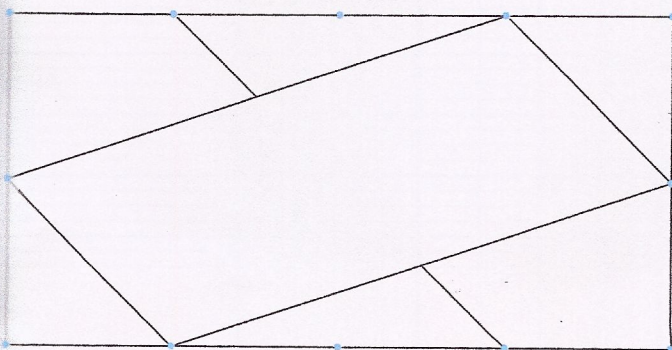
Qu'est-ce qui est le plus long, la ligne brisée CDEF ou le trait AB?

7

Reproduis le drapeau donné en modèle.

Modèle

Ton tracé



8