



Découvrons

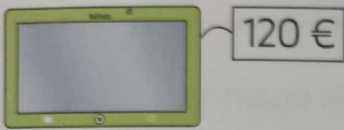
MÉMO
14

1 Mélissa, Théo et Léa ont-ils la même somme d'argent ? oui non



Complète. $50\text{ c} + 50\text{ c} = \dots\dots\dots\text{ c} = \dots\dots\text{ €}$

2 Entoure les billets que tu dois donner pour payer cette tablette.



Je m'entraîne

3 *Dessine*
Colle les pièces pour payer cette figurine.



Il y a plusieurs solutions.
Choisis-en une !



4 Entoure la monnaie pour payer cette trottinette.



5 Pose et calcule.

$$328 + 75$$

Le coin du chercheur

Le tapis mesure 30 pieds.

Le tapis mesure 27 pieds.



Ali



Capucine

Qui a le plus grand pied ?
Entoure son prénom.