

Observe et écris l'heure indiquée par chaque horloge.

Lorsque la petite aiguille se trouve entre 9 et 10 et la grande aiguille sur le 6, il est 9 h 30 ou 9 heures et demie.



9 h 30



.....



.....



.....

Je m'entraîne

Relie chaque horloge au réveil qui indique la même heure.



10 : 30, c'est 10 h 30.



10 : 30

6 : 30

8 : 00

2 : 30

Dessine les aiguilles qui correspondent aux heures d'ouverture et de fermeture de la piscine.

PISCINE MUNICIPALE

Heure d'ouverture 8 h 30

Horaires DIMANCHE

Heure de fermeture 11 h 30

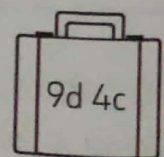
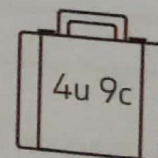
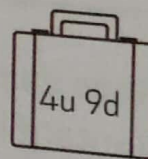
heure d'ouverture



heure de fermeture



Colorie chaque valise de la couleur de son propriétaire.



80 quatre-vingts