
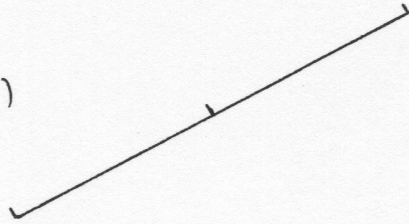


Pour un rectangle dont les diagonales mesurent 6 cm.


1.)



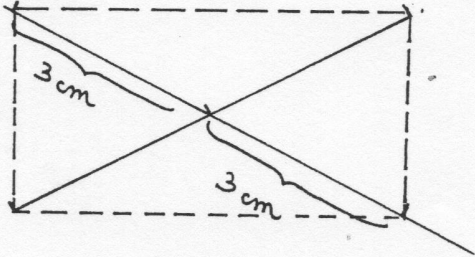
2.)



3.)



4) et 5.)



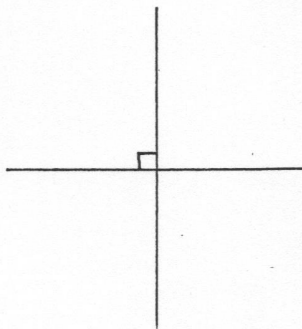
**b- Pour un carré dont les diagonales mesurent 4 cm par exemple**

- 1- Tracer deux perpendiculaires.
- 2- Mesurer 2 cm de chaque côté du point d'intersection de ces deux perpendiculaires ( car  $2 \times 2 = 4$ ).
- 3- Relier les sommets obtenus.

**Exemple :**

Pour un carré dont les diagonales mesurent 4 cm.

1.)



2) et 3.)

