

K12E06

11

Yona colorie en gris les cases A2, B1, B2, B3, B4, C3, D3 et D4 du tableau. Quel coloriage obtient-elle ?

	A	B	C	D
1				
2				
3				
4				

	A	B	C	D
1				
2				
3				
4				

A)

	A	B	C	D
1				
2				
3				
4				

B)

	A	B	C	D
1				
2				
3				
4				

C)

	A	B	C	D
1				
2				
3				
4				

D)

	A	B	C	D
1				
2				
3				
4				

E)

12

Tous les amis invités se sont déchaussés en entrant. La figure montre leurs chaussures.

Combien y a-t-il d'invités ?

- A) 4 B) 5 C) 6 D) 8 E) 10



K12E03

13

Dans ces deux additions, les citrons cachent les mêmes nombres.

Quel nombre est caché sous la pomme ?

- A) 2 B) 3 C) 4 D) 5 E) 6

$$\text{Citron} + 4 = 7$$

$$\text{Pomme} + \text{Citron} = 9$$

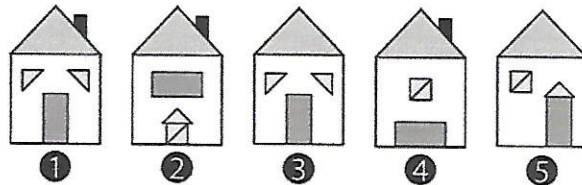
K15E05

14

Parmi ces cinq dessins de maisons, lesquels utilisent exactement les mêmes formes ?

- A) 1 et 4 B) 3 et 5 C) 2 et 4

- D) 2 et 5 E) 3 et 4



K14E02

15

Quand Pinocchio ment, son nez s'allonge de 6 cm. Quand il dit la vérité, son nez raccourcit de 2 cm. Son nez mesurait 9 cm avant de dire 3 mensonges et 2 phrases vraies.

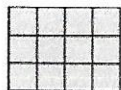
Combien le nez de Pinocchio mesure-t-il après ?

- A) 14 cm B) 15 cm C) 19 cm D) 23 cm E) 31 cm

K13E10

16

On découpe ce rectangle

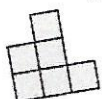


en deux morceaux. L'un des morceaux est

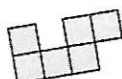


Quel est l'autre morceau ?

A)



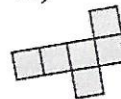
B)



C)



D)



E)



K15E06