


1 Quand les champs s'étendent à perte de vue, c'est que nous sommes dans une plaine. **Une plaine est une grande étendue de terrain plat.** On y circule facilement. Les rivières coulent lentement. La terre y est souvent fertile et on peut utiliser de grosses machines pour la cultiver.

Colorie :

- la rivière en bleu
- la route en jaune
- les champs en vert clair
- les arbres en vert foncé.

Repasse la ligne d'horizon en bleu.

2 Observe le dessin et complète les phrases avec les mots : plat, sinueuse, facile, droites.



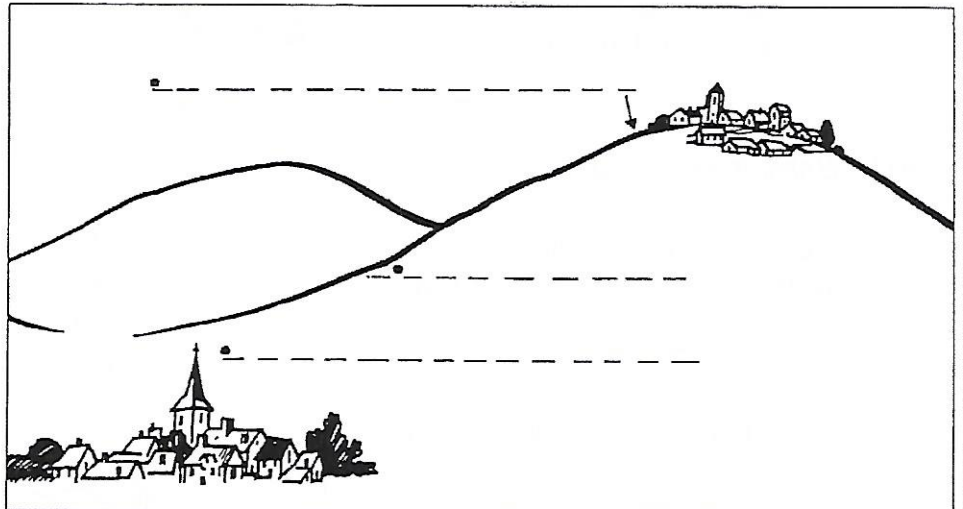
La rivière est _____. Les routes sont _____.
La plaine est un pays _____. Le travail de la terre y est _____.

3 La plaine n'est pas toujours absolument plate. On y voit d'énormes buttes de terre arrondies qui s'élèvent en pente douce. Ce sont des **collines**.

Ecris où il faut :

- le sommet de la colline
- le pied de la colline
- le versant.

- Dessine la route (droite ou sinueuse) qui relie les deux villages.



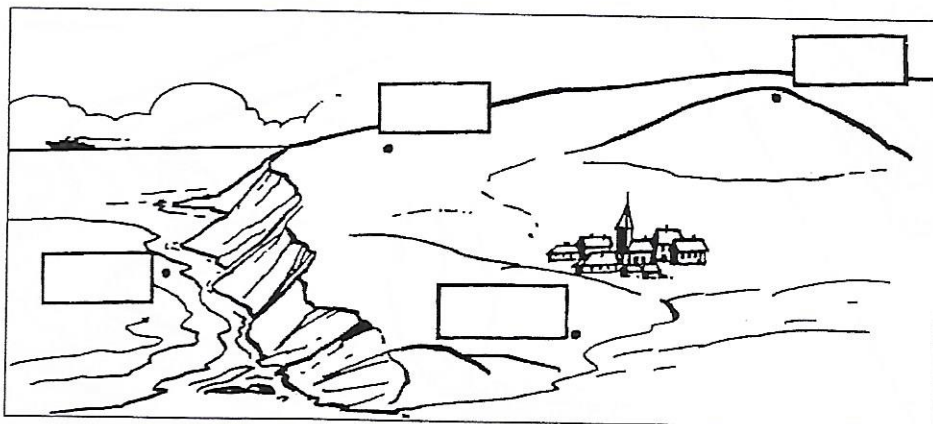
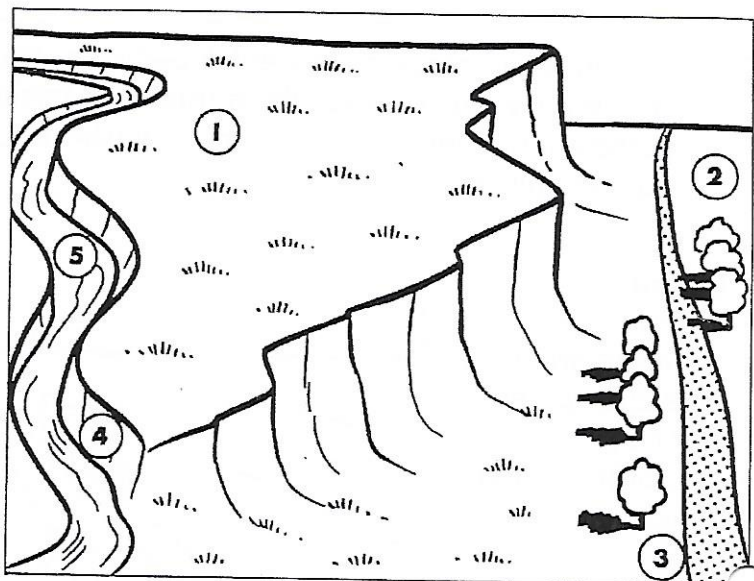
- 4 Quand, après avoir monté longtemps, nous arrivons dans une grande étendue de pays plat, nous sommes sur un plateau.

Un plateau est une étendue plate mais élevée.

Ecris le numéro qui convient :

- le plateau la gorge
 la plaine la route
 la rivière

Colorie en marron le dessus du plateau et en jaune le versant abrupt



- 5 L'altitude d'un endroit est sa hauteur au-dessus du niveau de la mer.

Colorie la mer en bleu, puis écris l'altitude de chaque point :

60 m	10 m
90 m	0 m

- 6 Sur cette carte de France, on a représenté les plaines en blanc et les plateaux et collines en pointillés.

Colorie la carte en mettant les plaines en vert et les collines et les plateaux en jaune.

- 7 Barre la phrase qui est fautive :

- En France, les plaines sont surtout situées à l'Est et au Sud.
- En France, les plaines sont surtout situées au Nord et à l'Ouest.

