

①

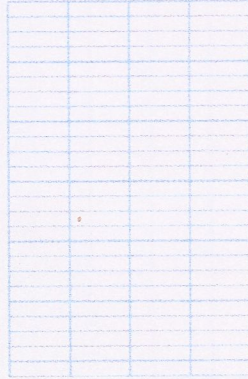

Imagine, pose et calcule.

$28 + 48 + 25 =$

$34 + 46 + 55 + 53 =$

$86 + 106 =$

$128 + 64 =$



2



Imagine, pose et calcule.

$20 + 62 + 5 + 21 =$

$19 + 129 + 5 =$

$27 + 133 =$

$148 + 37 =$



4

② Dessine, indique le calcul, puis complète :

DESSIN :

3 paquets de 10 cahiers et 6 cahiers isolés, c'est
cahiers en tout. calcul: _____8 carnets de 10 timbres et 2 timbres isolés, c'est :
..... timbres en tout. calcul: _____5 équipes de 3 enfants et 1 enfant isolé, c'est enfants
en tout. calcul: _____9 pièces de 2 euros et encore 1 euro, c'est euros
en tout. calcul: _____

3

Problèmes à résoudre

- 1 ► Dans un zoo, il y a 13 singes.
Le gardien arrive avec 8 bananes.

Combien de singes
n'auront pas de bananes ?

- 2 ► Pour un goûter,
Madame Baroux ouvre
4 paquets de 6 gâteaux.

Combien de gâteaux y a-t-il ?

9

① Dessin:

calcul:

phrase réponse: ⚠ majuscule / point

② Dessin:

calcul:

phrase réponse: ⚠ majuscule / point