

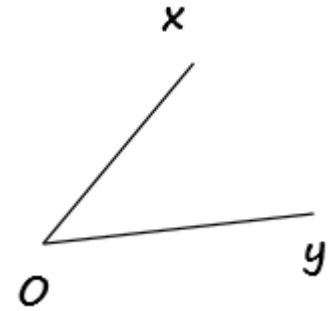
# Les angles

**1** Complète.

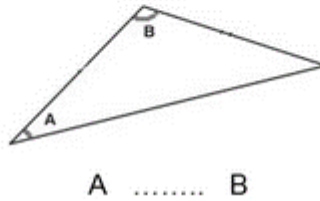
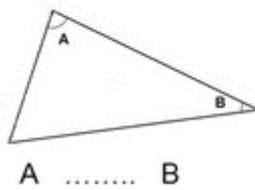
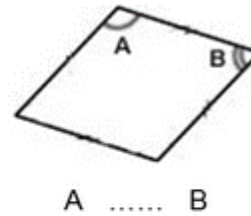
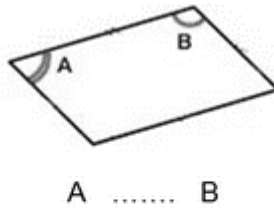
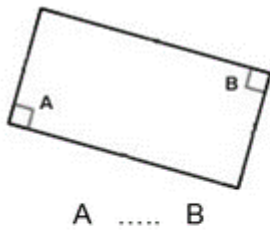
O est le ..... de l'angle.

[Ox) et [Oy) sont les ..... de l'angle.

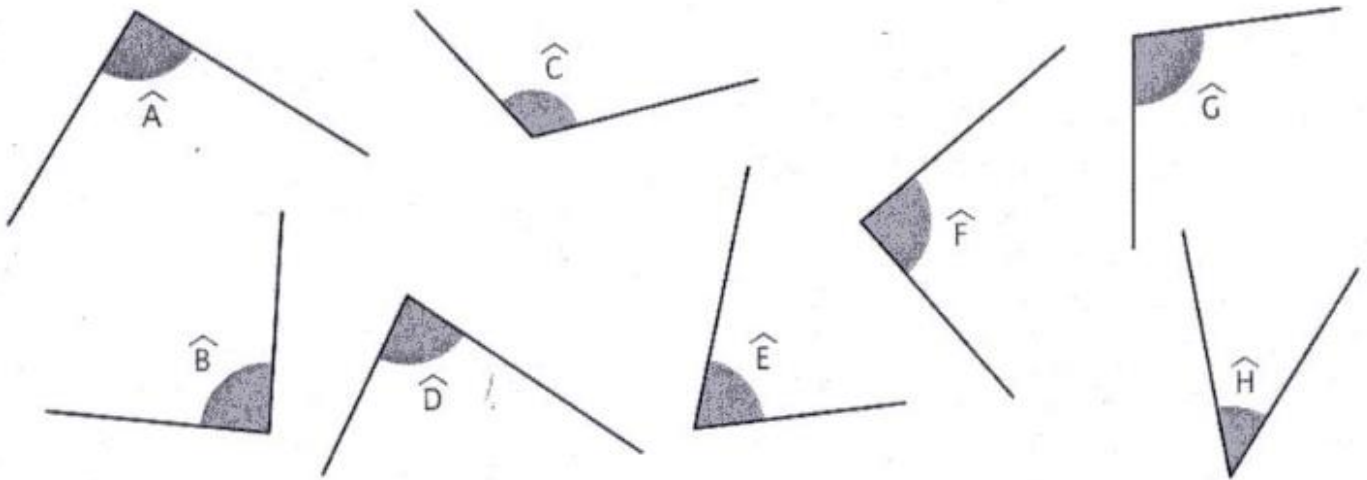
Colorie le secteur angulaire en rouge.



**2** Placer le signe <, > ou = entre les 2 angles de chaque figure.



**3** Indique si les angles suivants sont aigus, droits ou obtus. Puis range-les du plus grand au plus petit.



A : ..... B : ..... C : ..... D : .....  
 E : ..... F : ..... G : ..... H : .....  
 ..... > ..... > ..... > ..... > ..... > ..... > .....