

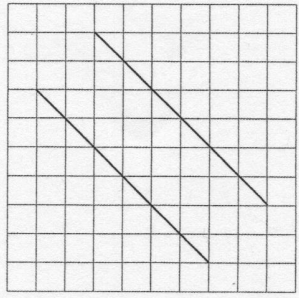

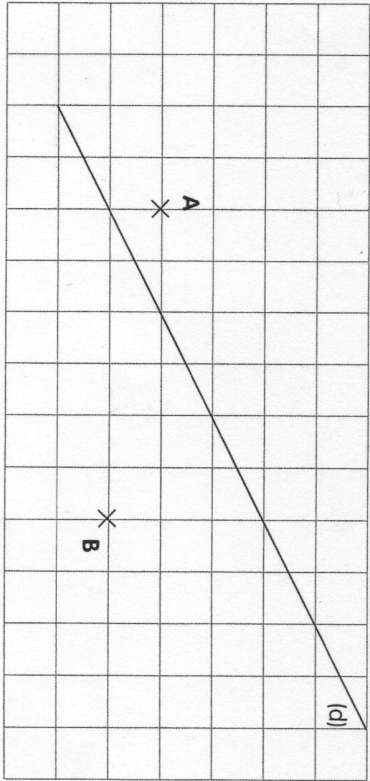


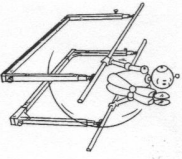
1 Reproduis ces 2 droites parallèles sur le quadrillage.



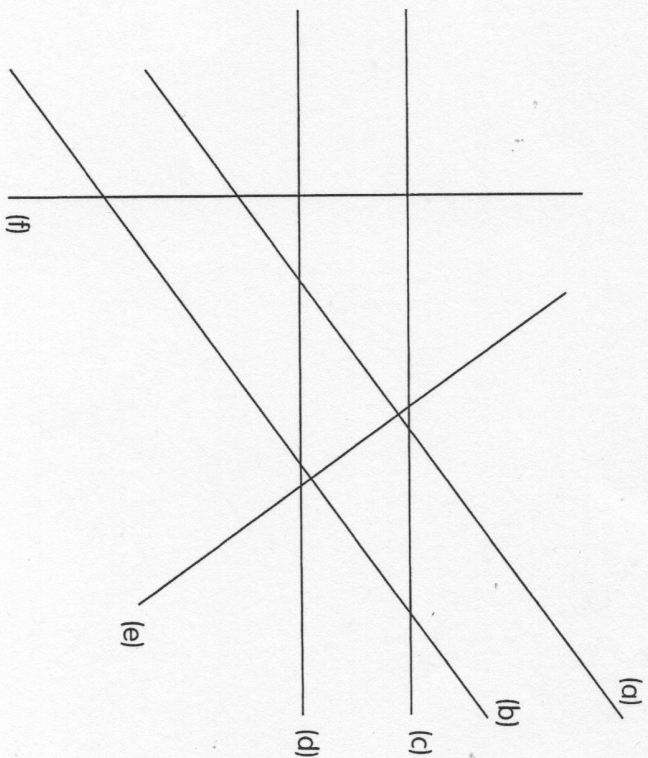
2 A l'aide de ta règle uniquement, trace la droite parallèle à la droite (d) passant par le point A et la droite parallèle à la droite (d) passant par le point B.



3 Trace une droite (c) parallèle à la droite (d).



1 Complète le tableau avec les symboles \perp (perpendiculaire) ou $//$ (parallèle).



	(a)	(b)	(c)	(d)	(e)	(f)
(a)						
(b)						
(c)						
(d)						
(e)						
(f)						

