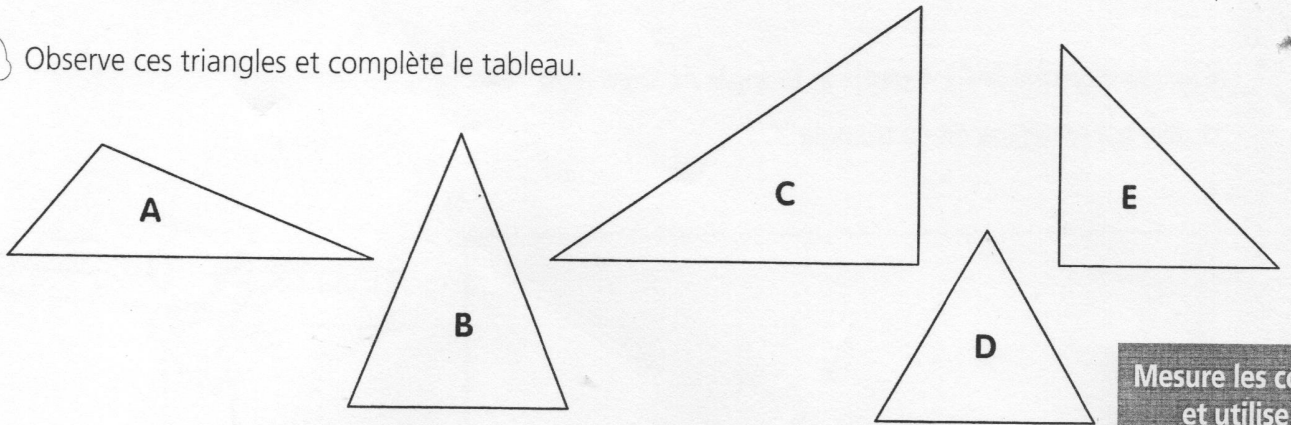



1 Observe ces triangles et complète le tableau.




Triangles	Nombre de côtés de même mesure	Y a-t-il des angles droits ?		Nom du triangle
A		oui	non	
B		oui	non	
C		oui	non	
D		oui	non	
E		oui	non	


Mesure les côtés et utilise ton équerre pour les angles droits




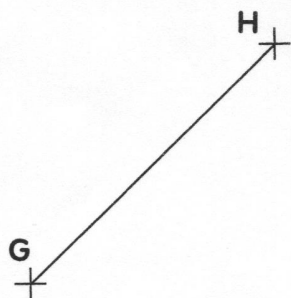
2 Trace un triangle quelconque DEF.



3 Trace un triangle rectangle LMN.



4 Trace un triangle équilatéral GHI.



5 Trace un triangle isocèle ABC.

