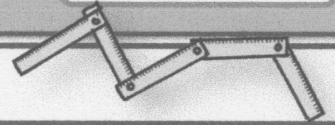




# Mathématiques CM

Mesure 3

## Périmètre d'un polygone




.....  
.....



**Périmètre du rectangle**

(..... + .....) x .....


$P =$  .....



**Périmètre du carré**

..... x .....

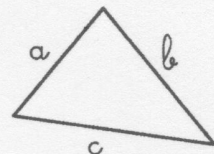
$P =$  .....



**Périmètre du triangle**


.....

$P =$  .....



1

Utilise ta règle pour trouver le périmètre des figures



2

Complète les tableaux.

Rectangles				
	a	b	c	d
Longueur	12 cm	64 cm	1 523 dm	.....mm
Largeur	8 cm	33 cm	.....dm	54mm
Demi-périmètre	..... cm	..... cm	2103 dm	.....mm
Périmètre	..... cm	..... cm	.....dm	156mm

Carrés				
	a	b	c	d
Côté	41 cm	..... cm	13 dm	.....mm
Périmètre	.....cm	140 cm	.....dm	80mm