



Prénom : \_\_\_\_\_

Date : \_\_\_\_\_

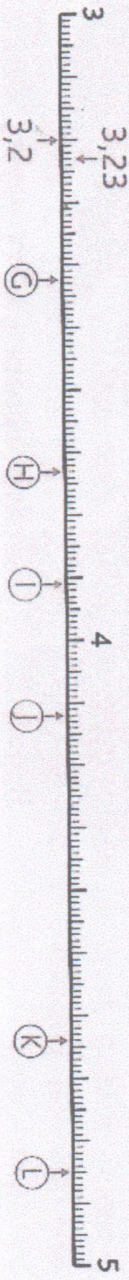

**Nombre et calculs : Les nombres décimaux**  
Repérer et placer des décimaux sur une demi-droite graduée

CM2


Fiche d'exercices n° 39

➔ **Exercice 1 :** Observe comment ces demi-droites sont graduées et associe chaque nombre à une lettre :

- 0,4 • 1,2 • 3,42 • 5,6 • 4,85 • 2,4 • 3,6 • 4,12 • 3,91 • 4,4 • 3,73 • 4,64

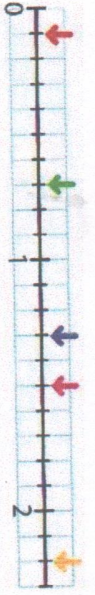


➔ **Exercice 2 :** Place les nombres sur cette demi-droite graduée.



- 6,42   7,23   6,57   7,41   7,62   6,14   7,84   7,96   6,68   7,5

➔ **Exercice 3 :** Retrouve le nombre décimal représenté par chaque flèche.



➔ **Exercice 4 :** Retrouve le nombre décimal représenté par chaque lettre.

