



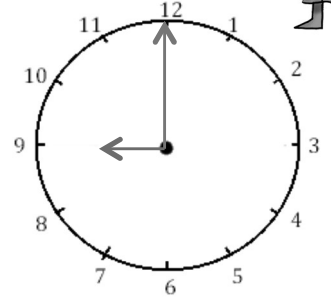
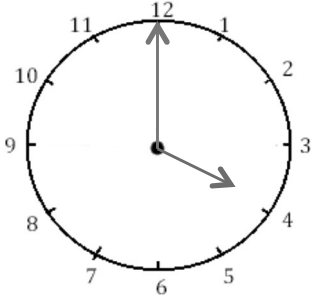
Mesures

Fiche 1

Les heures

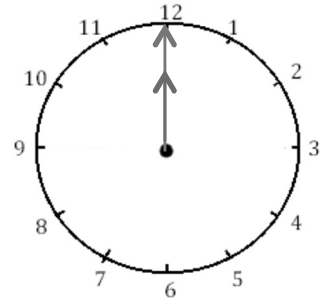
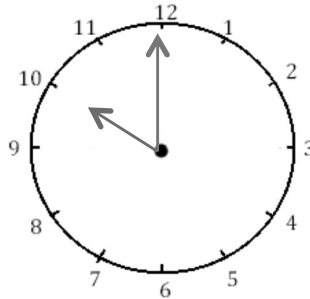
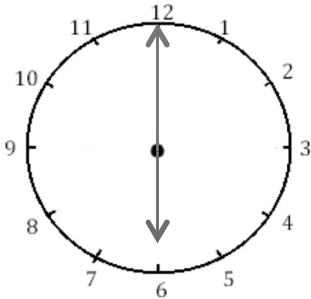


1 J'écris les heures indiquées sur ces horloges. Nous sommes le matin.



Il est ___ h et ___ min. Il est ___ h et ___ min. Il est _____.

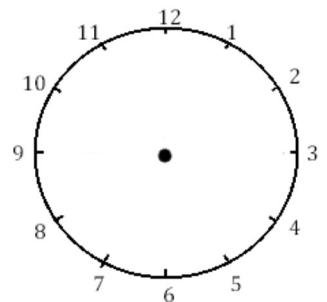
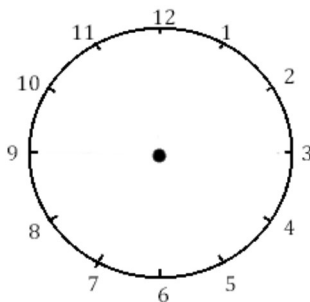
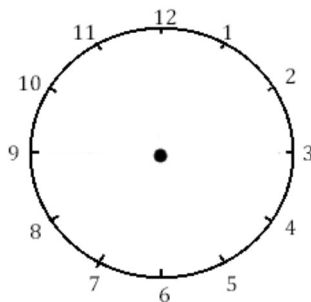
2 J'écris les heures indiquées sur ces horloges. Nous sommes le matin



Il est ___ h et ___ min. Il est ___ h et ___ min. Il est _____.



3 Je place les aiguilles selon les heures indiquées. (heures en rouge, minutes en bleu)



Il est 3 h 00 min. Il est 11 h 00 min. Il est 5 h 00 min.