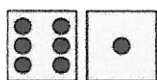



K16E02


1 Alfred, Berthe, Charles, Doris et Ernst ont chacun lancé deux dés. Si on additionne le nombre de points obtenus par chacun, lequel a le plus grand total ? *= le plus de points*




A) Alfred



B) Berthe



C) Charles



D) Doris



E) Ernst

K16E03

2 Lequel de ces calculs est faux ? *1+1=2*

A)  $0 + 0 = 0$

B)  $2 \times 2 = 4$


C)  $1 + 1 = 1$

D)  $2 + 2 = 4$

E)  $1 \times 1 = 1$

K17E01

3 Jean a dessiné la moitié des kangourous qu'il y a dans le parc : Combien y a-t-il de kangourous dans le parc ?



A) 12

B) 14

C) 16

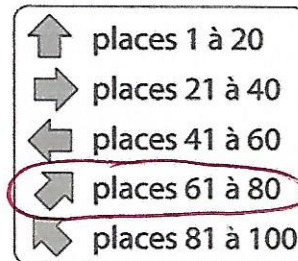
D) 18

E) 20

*6 + 6 = 12*

K16E04

4 Jeff va au cirque avec son père. Ils ont les places numérotées 71 et 72. Ils sont devant le panneau dessiné ci-contre. Quelle direction doivent-ils prendre ?



A)

B)


C)

D)

E)

K16E01

5 Quelle lettre du mot « KANGOUROU » n'est pas écrite dans le cadre gris ci-contre ?



A) R

B) P

C) T

D) N

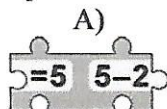
E) K

K17E02

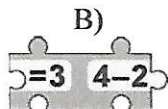
6 On doit former deux égalités justes en plaçant une pièce à l'endroit laissé libre.



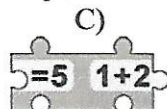
Laquelle des cinq pièces suivantes peut-on placer ?



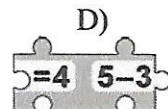
*5-2 ≠ 2*



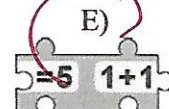
*non*



*1+2 ≠ 2*



*non*



*Oui*

K17E03

7 Une seule route relie les villages de Belmont et Prévert. Il y a 16 km entre les deux villages. Quel est le nombre effacé sur le deuxième panneau de la figure ?




A) 6

B) 7

C) 8

D) 9

E) 16



*16 - 9 = 7*  
*ou 9 + (7) = 16*