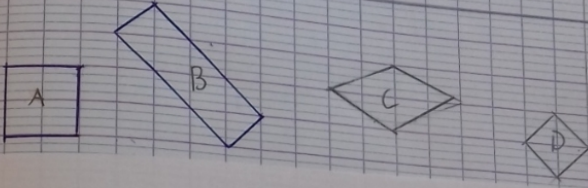
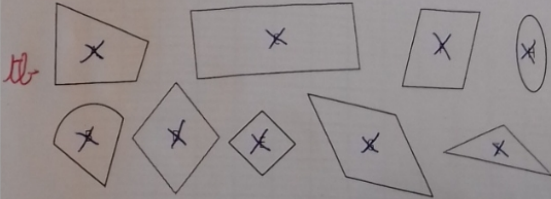


47 630 → quarante-sept-mille-soixante-trois
 43 030 → quarante-trois-mille-six-cent-trente
 47 063 → quarante-sept-mille-trente
 quarante-trois-mille-six-cent-trois



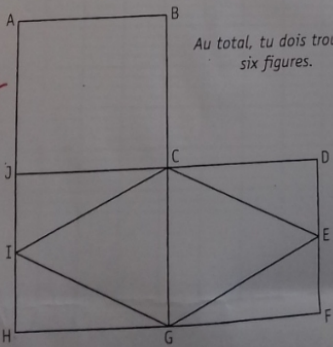
1 * Observe ces figures, puis complète le tableau.



Figures	
Polygones	AFI
Carrés	E
Rectangles	C
Losanges	DG

BH
 Pense à vérifier les angles et l'égalité des côtés des figures.

2 ** Nomme les carrés, les rectangles et les losanges de cette figure.



Au total, tu dois trouver six figures.

carrés C D * * F G
 A B C J
 J C G H
rectangles J D F H
 A B G H
losanges
 G I C E

3 * Reproduis ces figures.

