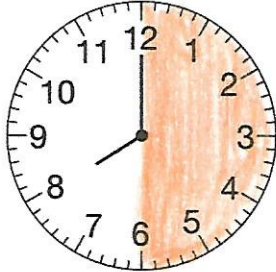


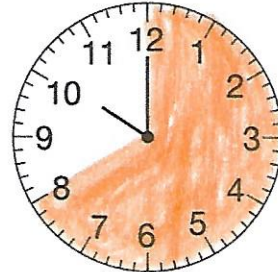
Nom ..... Date .....

**Lire l'heure**

1. Observe l'horloge.



2. Observe l'horloge.



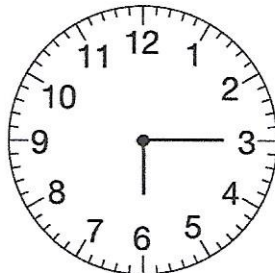
Colorie en orange la partie parcourue par la grande aiguille si 30 minutes s'écoulent.

Colorie en orange la partie parcourue par la grande aiguille si 40 minutes s'écoulent.


3. Quelle heure est-il ?



10 h 10  
22 h 10



6 h 15  
18 h 15

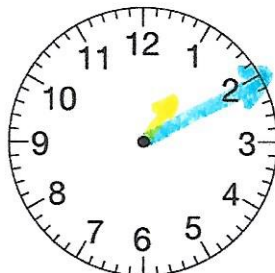


8 h 45  
20 h 45  
9 h - 15 (le quart)

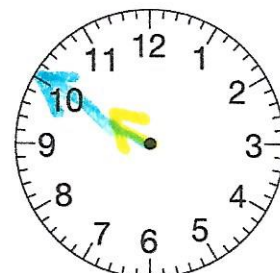
4. Place les aiguilles sur les horloges en fonction des heures indiquées.



5 h 20  
17 h 20



13 h 10  
1 h 10



9 h 50  
21 h 50  
ou 10 h - 10

5. Le voyage de Matthias dure 3 h 10 min. Il part à 14 h 30. À quelle heure arrive-t-il ?

Il arrive à 17 h 40.

J'ai le droit de faire :  
14 h 30  
+ 3 h 10  
-----  
17 h 40