


• Les mers - Les côtes



une côte rocheuse


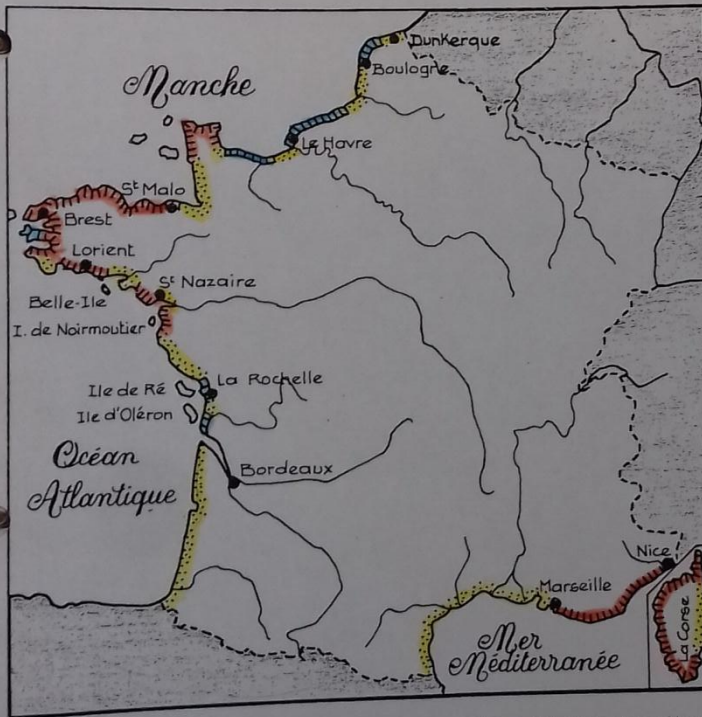


une côte rocheuse






une côte sableuse

1. Reconnais une côte rocheuse, une côte sableuse, une côte à falaises.
2. Ecris ces mots dans les cases qui conviennent.



3. Reconnais :
1 un cap
2 un golfe
Ecris ces numéros dans des O.

Légende

-  côte sableuse
-  falaises
-  côte rocheuse

4. D'après la légende, repère sur la carte des côtes sableuses, des côtes à falaises, des côtes rocheuses.
5. Colorie les côtes sableuses en jaune, à falaises en-bleu, rocheuses en marron.
6. Cite deux îles de l'océan Atlantique : Ile de Ré - Ile d'Oléron
..... et une île de la Méditerranée : Île de Corse