




# • Les mers - Les côtes



une côte rocheuse

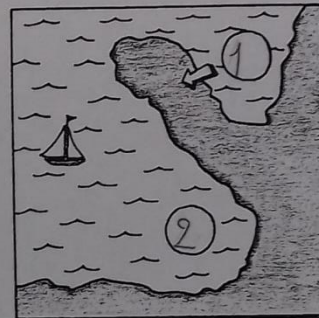
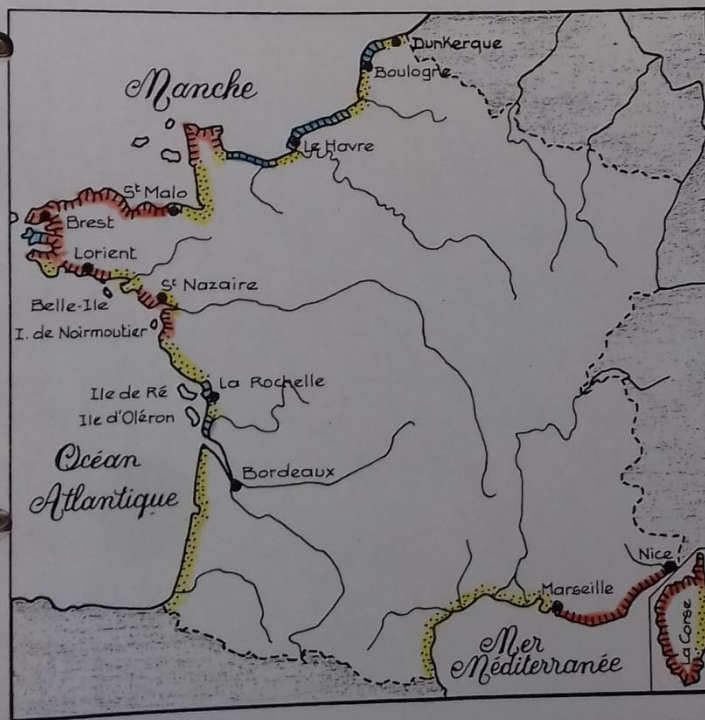


une côte rocheuse



une côte sableuse

1. Reconnais une côte rocheuse, une côte sableuse, une côte à falaises.
2. Ecris ces mots dans les cases qui conviennent.



3. Reconnais :  
1 un cap  
2 un golfe  
Ecris ces numéros dans des O.

## Légende

- côte sableuse
- falaises
- côte rocheuse

4. D'après la légende, repère sur la carte des côtes sableuses, des côtes à falaises, des côtes rocheuses.
5. Colorie les côtes sableuses en jaune, à falaises en-bleu, rocheuses en marron.
6. Cite deux îles de l'océan Atlantique : Ile de Ré - Ile d'Oléron.....  
..... et une île de la Méditerranée : La Corse.....