


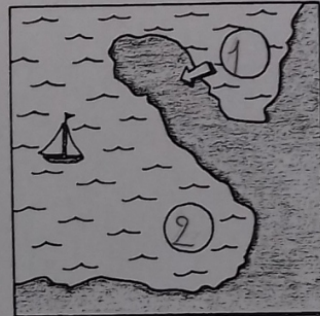
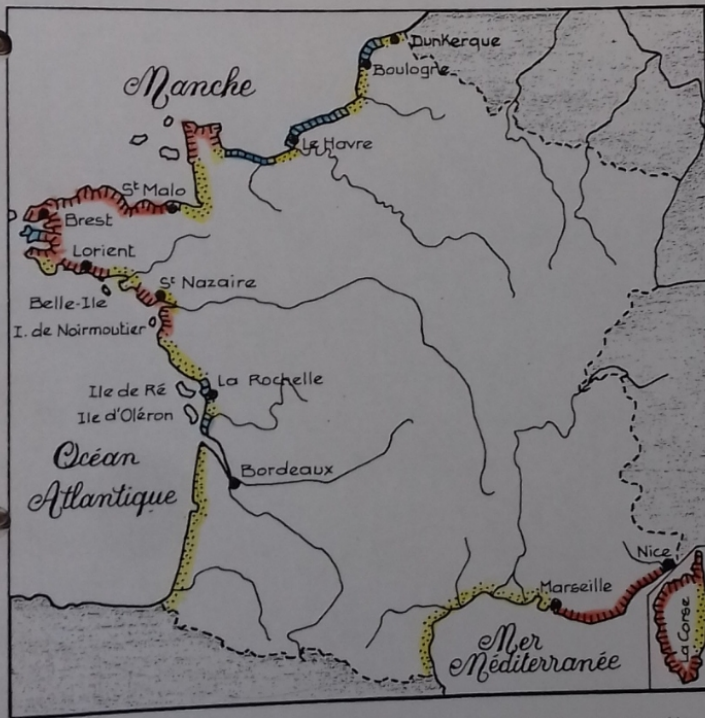


• Les mers - Les côtes



Une côte à falaises.

1. Reconnais une côte rocheuse - une côte sableuse - une côte à falaises.
2. Ecris ces mots dans les cases qui conviennent.



3. Reconnais :
1 un cap
2 un golfe
Ecris ces numéros dans des O.

Légende

- côte sableuse
- falaises
- côte rocheuse

4. D'après la légende, repère sur la carte des côtes sableuses, des côtes à falaises, des côtes rocheuses.
5. Colorie les côtes sableuses en jaune, à falaises en-bleu, rocheuses en marron.

6. Cite deux îles de l'océan Atlantique : Ile de Ré - Ile d'Oléron
..... et une île de la Méditerranée : Ile Corse