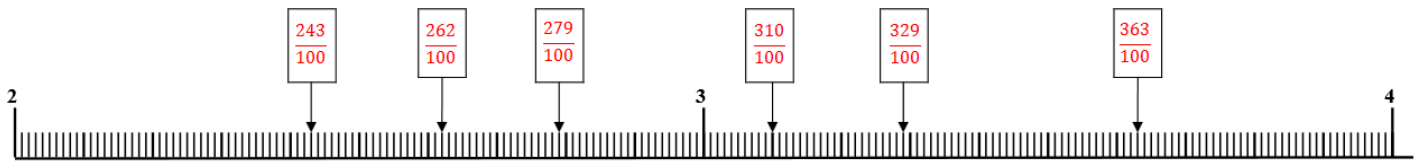
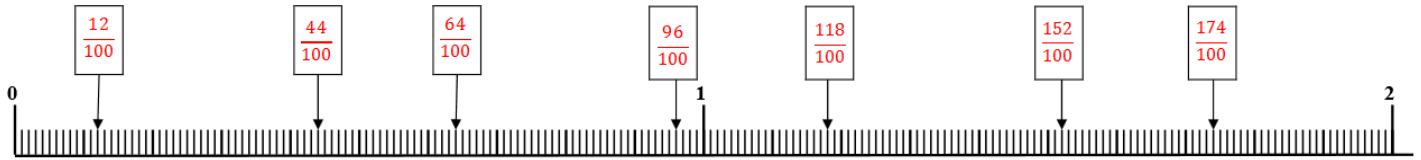


# Fractions décimales et graduations

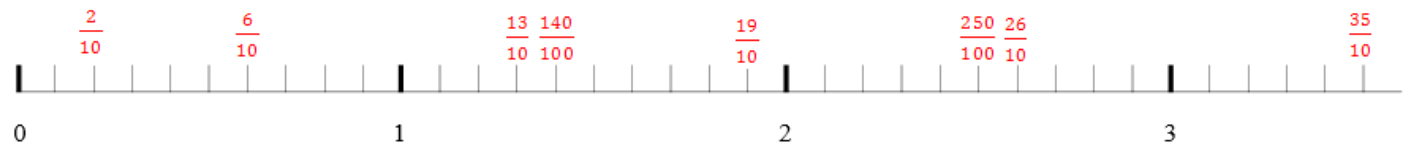
## Correction

1- Pour chaque droite graduée, trouve la valeur d'une graduation.

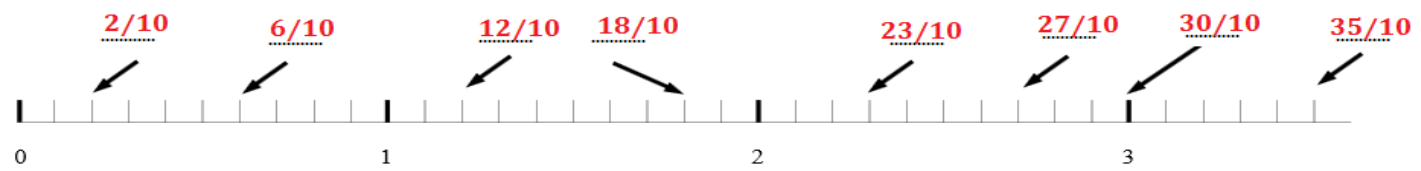


2- Place les points suivants sur la droite graduée ci-dessous.

$\frac{2}{10}$     $\frac{6}{10}$     $\frac{13}{10}$     $\frac{19}{10}$     $\frac{26}{10}$     $\frac{35}{10}$     $\frac{140}{100}$     $\frac{250}{100}$



3- Quelle est la fraction correspondante aux points indiqués sur la droite graduée.



4- Place les fractions sur la droite.

