



Découvrons

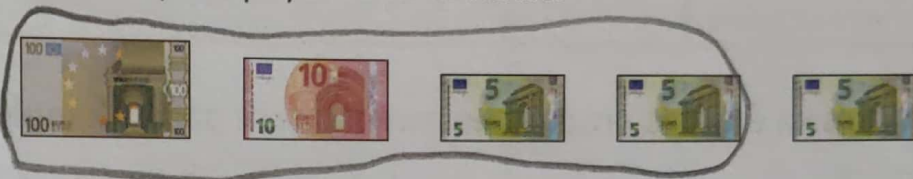
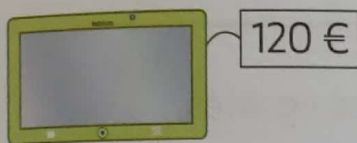
MÉMO
14

1 Mélissa, Théo et Léa ont-ils la même somme d'argent ? oui non



Complète. $50\text{ c} + 50\text{ c} = \dots 100 \dots \text{ c} = \dots 1 \dots \text{ €}$

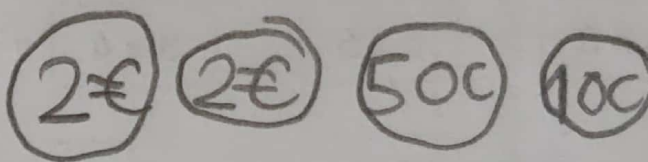
2 Entoure les billets que tu dois donner pour payer cette tablette.




Je m'entraîne

3 Colle les pièces pour payer cette figurine.

Il y a plusieurs solutions.
Choisis-en une !



4 Entoure la monnaie pour payer cette trottinette.



5 Pose et calcule.

$$328 + 75$$

$$\begin{array}{r} 328 \\ + 75 \\ \hline 403 \end{array}$$

Le coin du chercheur

Le tapis mesure
30 pieds.

Le tapis mesure
27 pieds.



Ali



Capucine

Qui a le plus grand pied ?
Entoure son prénom.