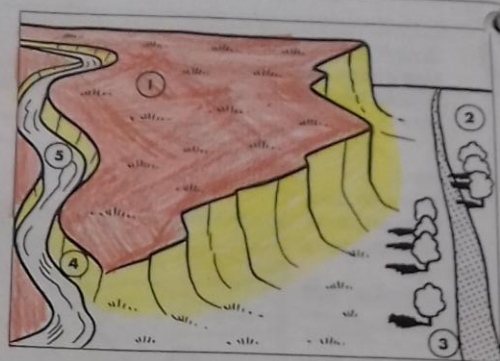
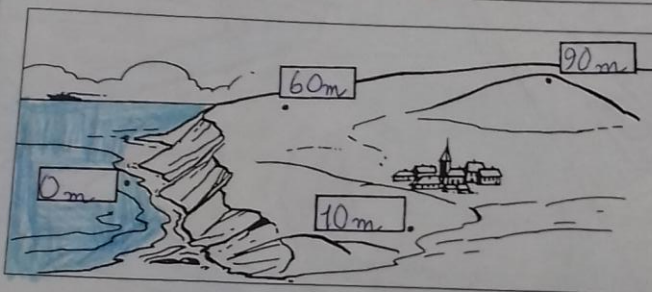


4 Quand, après avoir monté longtemps, nous arrivons dans une grande étendue de pays plat, nous sommes sur un plateau.
 Un plateau est une étendue plate mais élevée.

- Ecris le numéro qui convient :
- ① le plateau ④ la gorge
 - ② la plaine ③ la route
 - ⑤ la rivière



Colorie en marron le dessus du plateau et en jaune le versant abrupt

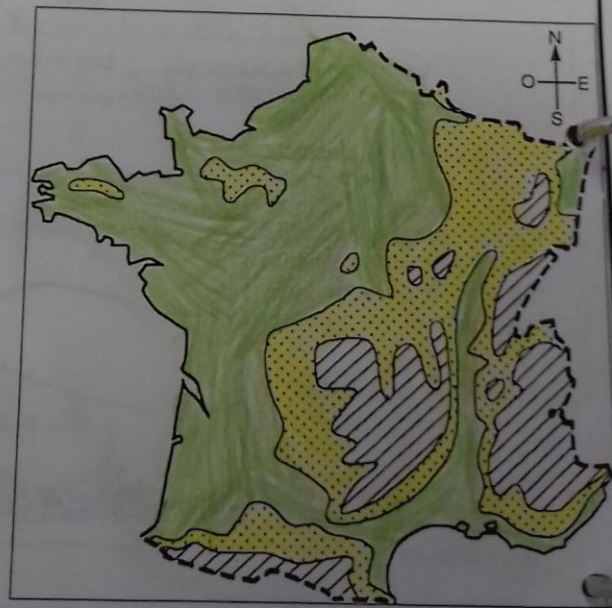


5 L'altitude d'un endroit est sa hauteur au-dessus du niveau de la mer.

Colorie la mer en bleu, puis écris l'altitude de chaque point :

- 60 m 10 m
- 90 m 0 m

6 Sur cette carte de France, on a représenté les plaines en blanc et les plateaux et collines en pointillés.
 Colorie la carte en mettant les plaines en vert et les collines et les plateaux en jaune.



7 Barre la phrase qui est fautive :

- ~~En France, les plaines sont surtout situées à l'Est et au Sud.~~
- En France, les plaines sont surtout situées au Nord et à l'Ouest.