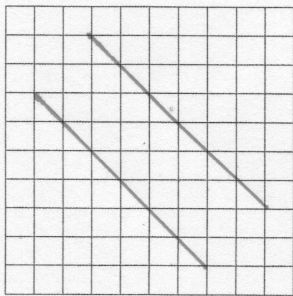

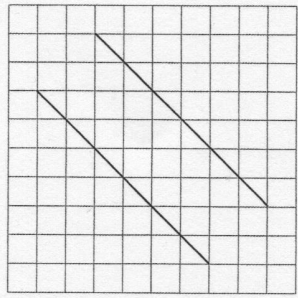

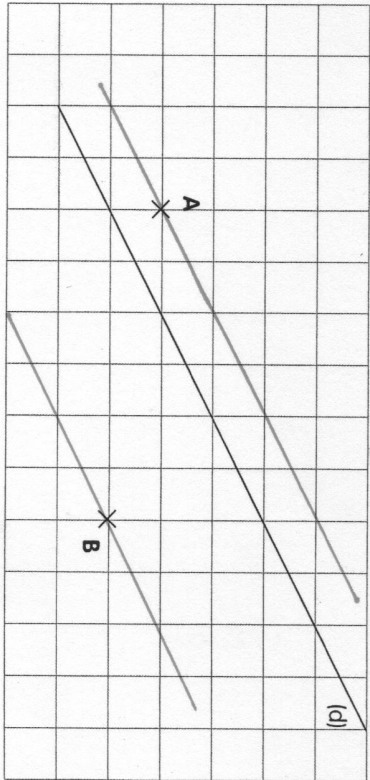



1 Reproduis ces 2 droites parallèles sur le quadrillage.



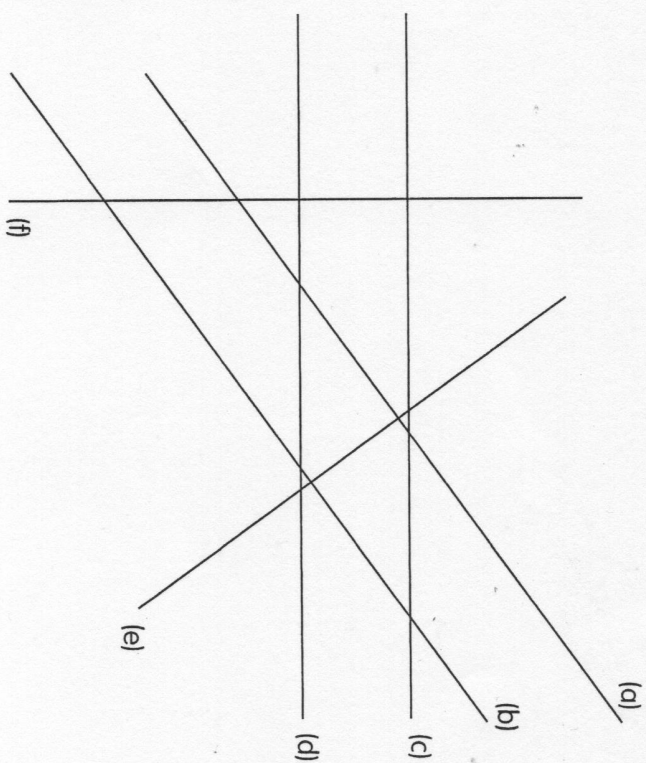
2 A l'aide de ta règle uniquement, trace la droite parallèle à la droite (c) passant par le point A et la droite parallèle à la droite (d) passant par le point B.



3 Trace une droite (c) parallèle à la droite (d).



1 Complète le tableau avec les symboles \perp (perpendiculaire) ou \parallel (parallèle).



	(a)	(b)	(c)	(d)	(e)	(f)
(a)		\parallel	.	.	\perp	.
(b)	\parallel		.	.	\perp	.
(c)	.	.		\parallel	.	\perp
(d)	.	.	\parallel		.	\perp
(e)	\perp	\perp	.	.		.
(f)	.	.	\perp	.	.	

