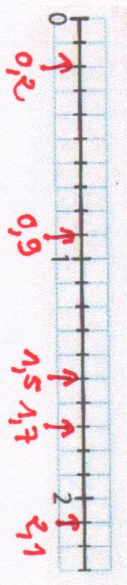
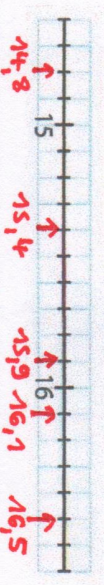


# Equation

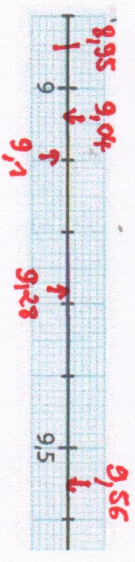
➔ **Exercice 5 :** Place les nombres. 1,7 • 0,2 • 0,9 • 1,5 • 2,1



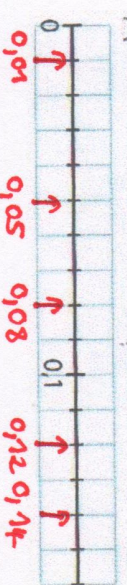
➔ **Exercice 7 :** Place les nombres. 15,4 • 16,1 • 14,8 • 15,9 • 16,5



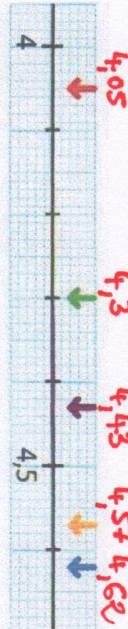
➔ **Exercice 9 :** Place les nombres. 9,1 • 9,28 • 9,04 • 9,56 • 8,95



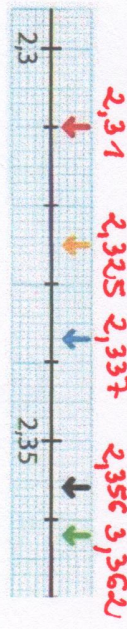
➔ **Exercice 6 :** Place les nombres. 0,01 • 0,14 • 0,08 • 0,12 • 0,05



➔ **Exercice 8 :** Retrouve le nombre décimal représenté par chaque flèche.



➔ **Exercice 10 :** Retrouve le nombre décimal représenté par chaque flèche.



Pour aller plus loin!

➔ **Exercice 11 :** Indique à quels nombres correspondent les lettres.

