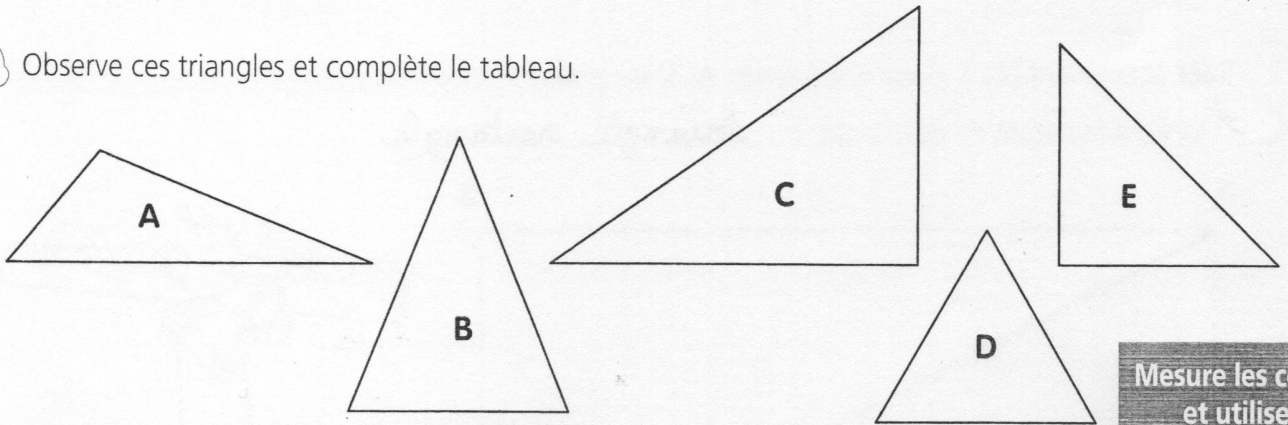



1 Observe ces triangles et complète le tableau.

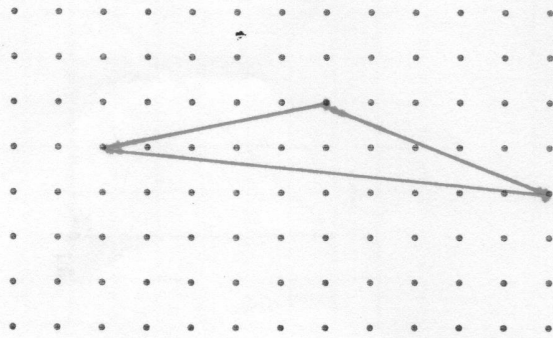


Triangles	Nombre de côtés de même mesure	Y a-t-il des angles droits ?		Nom du triangle
A	0	oui	<input checked="" type="radio"/> non	quelconque
B	2	oui	<input checked="" type="radio"/> non	isocèle
C	0	<input checked="" type="radio"/> oui	non	rectangle
D	3	oui	<input checked="" type="radio"/> non	équilateral
E	2	<input checked="" type="radio"/> oui	non	rectangle isocèle

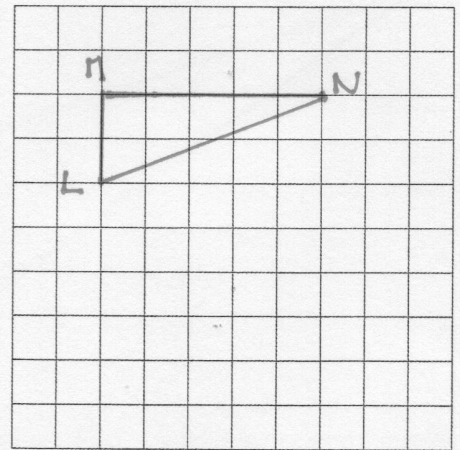
Mesure les côtés et utilise ton équerre pour les angles droits !




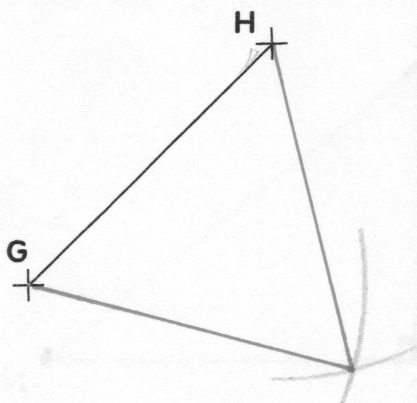
2 Trace un triangle quelconque DEF.



3 Trace un triangle rectangle LMN.



4 Trace un triangle équilatéral GHI.



5 Trace un triangle isocèle ABC.

