

Revision

Prénom : _____

Date : _____

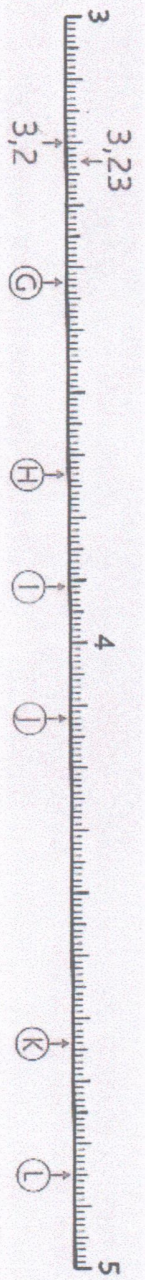



Nombre et calculs : Les nombres décimaux
Repérer et placer des décimaux sur une demi-droite graduée

CM2


Fiche d'exercices n° 39

- Exercice 1 : Observe comment ces demi-droites sont graduées et associe chaque nombre à une lettre :
- 0,4 • 1,2 • 3,42 • 5,6 • 4,85 • 2,4 • 3,6 • 4,12 • 3,91 • 4,4 • 3,73 • 4,64
- (A) (B) (C) (D) (E) (F) (G) (H) (I) (J) (K)

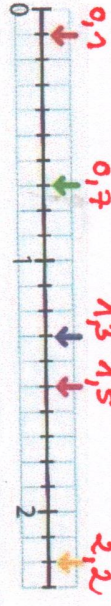


→ Exercice 2 : Place les nombres sur cette demi-droite graduée.

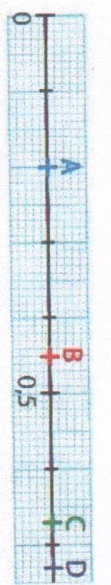
- 6,42 7,23 6,57 7,41 7,62 6,14 7,84 7,96 6,68 7,5



→ Exercice 3 : Retrouve le nombre décimal représenté par chaque flèche.



→ Exercice 4 : Retrouve le nombre décimal représenté par chaque lettre.



- A = 0,2
B = 0,4
C = 0,6
D = 0,8