

CM1 : Travail du vendredi 20 mars

FRANÇAIS :

1) Rituel orthographe : faire la dictée soit avec un adulte (voir document « correction vendredi 20/03 pour avoir l'ensemble de la dictée), soit seul (e) en corrigeant les fautes.

Consigne : réécris la dictée ci-dessous en corrigeant les fautes.

Les petite sorcière étai assises pré du feu.

Leur mer avais un livres de recettes.

Elles avions très envie de manger cette soupe.

2) Vocabulaire : les synonymes :

Consigne : Remplace chaque mot souligné par un synonyme.

- a) Le tissu de la robe est joli.
- b) Je rentre dans un lieu obscur.
- c) Mon exercice est difficile.
- d) Ce bouquin est formidable.

3) Vocabulaire : Les antonymes.

Consigne : Remplace chaque mot souligné par un antonyme.

- a) Antoine gonfle son ballon.
- b) Ma sœur a les cheveux longs.
- c) Il se gare devant le cinéma
- d) Ton frère est plus jeune que toi.

4) Conjugaison

Consigne : Conjugue le verbe faire à l'imparfait de l'indicatif.

5) Lecture du roman « Chère Madame, ma grand-mère.

La troisième lettre p 15 à 18 : réponds aux questions suivantes :

- a) Identifie la cause de la démarche d'Olivia (qu'est ce qui la motive d'écrire à Mme Barrois ?).
- b) Quels sont les objets qui servent d'indices à Olivia ?
- c) Relève dans le texte, les mots qui témoignent de la tristesse de la mère d'Olivia.
- d) Anticipe : qui est Mme Barrois pour la mère d'Olivia ?


Mathématiques :

1) **10 Calculs minute** : réalise 10 multiplications en 1 minute (support donné en classe)

2) **Espace et géométrie : les angles.**

Consigne : Précise la nature de chaque angle.


Parmi ces angles lesquels sont : aigus ? Obtus ? Droits ?



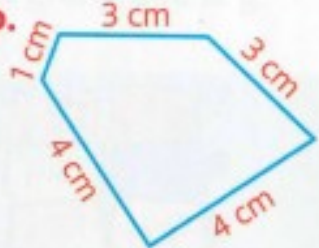
3) Le périmètre.

3 * Calcule le périmètre de chaque polygone sans poser l'opération. Indique lequel des deux a le plus petit périmètre.

a.



b.



7 * **PROBLÈME** Madame Pleutro décide de mettre une gouttière tout autour de son toit. Quelle longueur de gouttière doit-elle acheter ?

