

CM1 : Travail du vendredi 12 juin 2020

FRANÇAIS :

1) Orthographe :

Consigne : écris les groupes nominaux au pluriel.

- un roman captivant
- un vieux récit
- un conte étranger
- une histoire réelle
- une triste aventure
- une légende ancienne

2) Vocabulaire :

Consigne : Reprends les groupes nominaux ci-dessus et remplace chaque adjectif par un synonyme.

Refais le même exercice en remplaçant les adjectifs par des antonymes.

3) Grammaire :

2 En tenant compte de l'accord des adjectifs qualificatifs, écris chaque fois un nom qui convient pour obtenir un groupe nominal correctement orthographié.

1. des _____ bleues
2. quelques _____ hardis
3. de joyeux _____ enfantins
4. leur vieil _____
5. un _____ ébahi

4) Conjugaison :

10 On a retiré du texte les verbes au futur. Ils sont donnés à l'infinitif dans la liste. Choisis le bon verbe en t'aidant du sens et mets la terminaison qui convient.

dire • faire • être • être • oser • prendre • tuer • recevoir • suivre

« Je les suivrai de loin... À midi, ils ont dit qu'ils mangeraient près d'un puits.

Alors à ce moment, je me _____ voir, et s'ils veulent me renvoyer,

je _____ que je vais me perdre, et alors ils n' _____ pas.

– Peut-être que tu _____ une bonne gifle.

– Tant pis. J'en ai reçu d'autres, et des fois pour rien du tout...

– Si tu te caches dans les broussailles, peut-être l'oncle Jules te _____ pour

un sanglier et il te _____. Ça _____ bien fait pour lui, seulement, toi,

tu _____ mort. »

D'après MARCEL PAGNOL, *La Gloire de mon Père*, Éditions de Provence.

4) Lecture : Poursuivre l'Histoire « les seigneurs et les vassaux »

(Voir doc)

Consigne : lis le texte et réponds aux questions des documents 2 et 5. Chaque réponse doit être rédigée.

Devoirs pour le 18/06

Français revoir leçons C15 + O10

Maths revoir leçons de N18 à N22

Faire les opérations suivantes :

$$138,01 + 39 =$$

$$704,3 + 174,51 =$$

$$245 - 76,08 =$$

$$159,91 - 93,4 =$$

Géométrie : faire les exos 1 et 2 p65 (fichier joint intitulé « géom les triangles exos ») la correction sera donnée la semaine prochaine.

Mathématiques : NOMBRES ET CALCULS

Vidéo « Les blagues de Toto » : (3 histoires) pour reprendre dans la bonne humeur :

<https://www.youtube.com/watch?v=KRZZL5saqSE>

1) Calculs


Consignes : Pose et calcule les opérations ci-dessous.

$$33,5 - 28,91 =$$

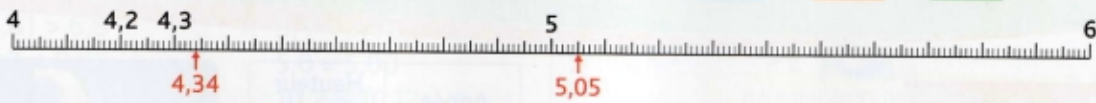
$$17,28 + 11,7 =$$


$$64,01 + 46,17 =$$


2) Consignes :

3 * *  Reproduis cette demi-droite graduée sur du papier millimétré et place les nombres.


4,5 4,63 5,1 5,27 5,92 4,82 4,1 4,16



4 * *  Observe les graduations de la droite et indique à quels nombres correspondent les lettres bleues.



Intercaler et encadrer des nombres décimaux

5 *  Observe les nombres.

2,97 0,92 4,05 2,04 5,01 4,5 4,51 1,01 0,4 3,96 4,1 6,5

a. Quels nombres s'intercalent entre 4 et 5 ? b. entre 2 et 3 ? c. entre 0 et 1 ?

Aide-toi d'une droite graduée sur du papier millimétré. 