

CM1 : Correction du lundi 11 mai 2020

FRANÇAIS :

1) Rituel orthographe :

Consigne : Complète les terminaisons à l'imparfait. Accorde chaque nom et adjectif en genre et en nombre si besoin.

Quand la classe allait à a piscine, nous n'oublions pas nos nombreuses affaires et les

Sujet du verbe Sujet du verbe Adjectif lié NOM
« allait » « oublions » au nom « affaires »

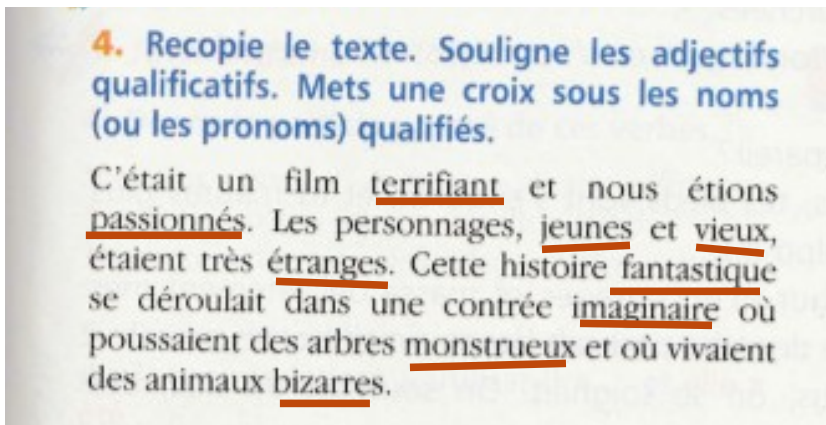
élèves impatients voulaient arriver le plus vite possible.

NOM Adjectif lié au nom « élèves »

Sujet du verbe
« voulaient »

2) Grammaire :

a) Les adjectifs :

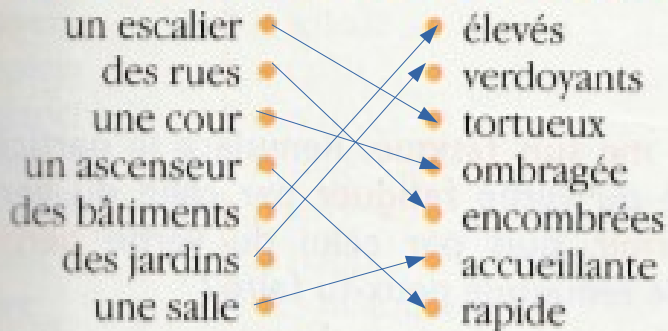


Adjectifs → Noms :

Terrifiant → film
passionnés → nous
jeunes, vieux et étranges → personnages
fantastique → histoire
imaginaire → contrée
monstrueux → arbres
bizarres → animaux.

Un même nom peut avoir plusieurs adjectifs c'est le cas pour le nom « personnages »..

6. Recopie les deux listes et relie chaque nom avec un adjectif qualificatif afin de former des expressions. Attention à l'orthographe.



Pour cet exercice il fallait être vigilants au genre et au nombre de chaque nom.

Ex : des rues encombrées il faut mettre la marque du féminin pluriel.

b) Rebrassage notions CO et CC.

Consigne : Dans chaque phrase identifie le complément d'objet (COD/COI) et le complément circonstanciel (temps, lieu, manière).

- 1) Lisa attend (quoi ?) deux lettres. COD
- 2) La fille joue (avec quoi?) au ballon. COI
- 3) Le facteur regarde (où ?) dans sa sacoche. CCLieu
- 4) (Quand ?) CCTemps A Noël, je reçois (quoi?) des cadeaux. COD

3) Lecture. Consigne : lis le texte ci dessous et réponds aux questions.

N'hésite pas à relire deux fois le texte et à utiliser le dictionnaire pour les mots dont tu ne connais pas le sens.

Chacune de tes réponses doit être rédigée sous forme de phrases.

- Le toucan « toco » est un :
- MAMMIFÈRE POISSON
- OISEAU REPTILE INSECTE



- Sur quel continent vit-il ?
- EUROPE ASIE OCÉANIE
- AFRIQUE AMÉRIQUE DU SUD

- Où habite-t-il ? Il habite en forêt amazonienne.
-
- Comment se déplace-t-il ? Il se déplace en volant de branche en branche.
-
- De quoi son corps est-il recouvert ? Son corps est recouvert de plumes.
-
- Quelle est la taille du toucan « toco » ? Le toucan mesure environ 65 centimètres.
-
- De quoi se nourrit-il ? Il se nourrit de fruits. Mais certaines espèces se nourrissent aussi d'insectes, d'araignées et de petits animaux.
-
- Par qui est-il chassé ? Il est chassé par certains chats sauvages.
-
- Combien pond-il d'œufs ? La femelle pond entre deux et quatre œufs.

Mathématiques :

1) Révision des tables.

Consigne : A l'oral, récite les tables de multiplication 8.

2) Calcul chrono : 30 secondes top chrono !

$$78 \times 10 = 780 \quad 960 \times 10 = 9\ 600 \quad 6 \times 7 = 42 \quad 80 \times 50 = 4\ 000$$

$$300 \times 30 = 9\ 000 \quad 5 \times 7 = 35 \quad 426 \times 10 = 4\ 260 \quad 12 \times 10 = 120$$

$$9 \times 100 = 900 \quad 342 \times 100 = 34\ 200 \quad 400 \times 80 = 32\ 000 \quad 70 \times 1 = 70$$

3) Grandeurs et mesures.

Les relations entre les unités de temps.

Tu peux travailler avec la leçon GM. 4

10 * Convertis.

a. 2 h = ... min d. 11 min 57 s = ... s

b. 5 min = ... s e. 1 h 05 min 3 s = ... s

c. 1 h 03 min = ... min f. 312 min = ... h ... min

- a) $2\text{h} = 60 \times 2 = 120\text{ min}$
 b) $5\text{ min} = 60 \times 5 = 300\text{ s}$
 c) $1\text{ h } 03\text{ min} = 60 + 3 = 63\text{ min}$
 d) $11\text{ min } 57\text{ s} = 11 \times 60 = 660$ $660 + 57 = 717\text{ s}$
 e) $1\text{ h } 05\text{ min } 3\text{ s} = 60 \times 60 = 3\,600\text{ s}$
 $= 60 \times 5 = 300\text{ s}$
 $= 3\,600 + 300 + 3 = 3\,903\text{ s}$

- f) $312\text{ min} = 5\text{ h } 12\text{ min}$
 $60\text{ min} \times 5\text{ (heures)} = 300\text{ min} = 5\text{h}$

Les siècles :


Consigne : complète le tableau.

4 est le chiffre des centaines, si je rajoute 1 ça me donne 5. Il s'agit du 5ème siècle.

Evènement	Année	Siècle
<i>Chute de l'empire romain</i>	476	5 ^{ème} s.
Révolution française	1789	$17 + 1 = 18^{\text{ème}}\text{ s}$
Première guerre mondiale	1914-1918	$19 + 1 = 20^{\text{ème}}\text{ s}$
François Hollande, Président de la République	2012	$20 + 1 = 21^{\text{ème}}\text{ s}$
Pépin le Bref devient roi des Francs	751	$7 + 1 = 8^{\text{ème}}\text{ s}$
La Bible est imprimée par Gutenberg	1455	$14 + 1 = 15^{\text{ème}}\text{ s}$
Pestes noires	1347-1350	$13 + 1 = 14^{\text{ème}}\text{ s}$
Appel à la Croisade par le pape Urbain II	1095	$10 + 1 = 11^{\text{ème}}\text{ s}$

Résolution de problème :

11 * PROBLÈME Phileas Fogg, le personnage du célèbre roman de Jules Verne, décide de relever le défi de faire le tour du monde en 80 jours. **Convertis cette durée en heures.**



Réponse :

On sait que dans une journée il y a 24 heures.
On effectue la multiplication $80\text{ (jours)} \times 24\text{ (heures)} = 1\,920\text{ heures}$
Phileas Fogg mettra 1 920 heures pour réaliser le tour du monde.