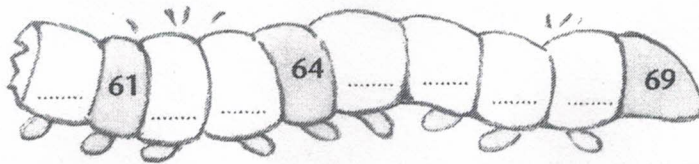
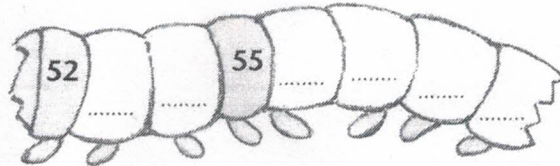
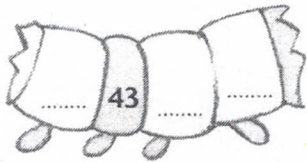
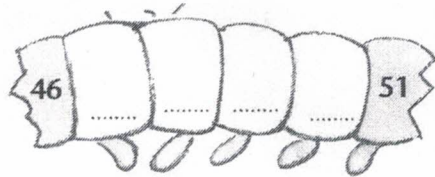
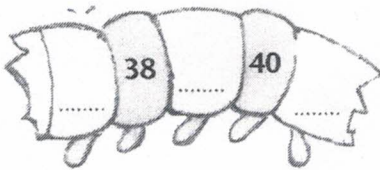
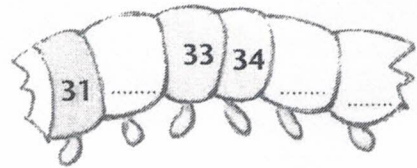



**Nombres et quantités : de 0 à 69**



**1** Ecris les nombres manquants et relie les morceaux de la chenille dans l'ordre:

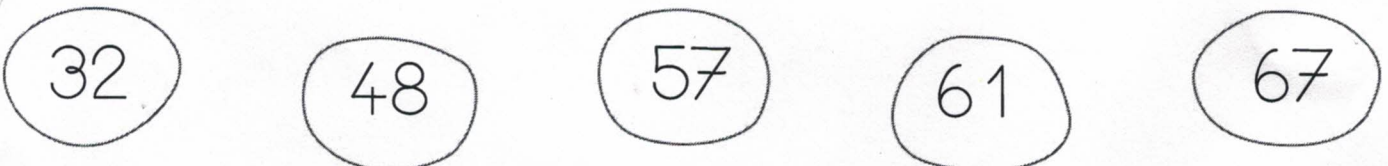


**2** Complète les tableaux:

62	6d 2u
50	
65	
48	
32	

	6d 3u
	5d 1u
	5d
	6d 9u
	8u


**3** Relie les nombres à leur place sur la droite graduée :



Prénom : \_\_\_\_\_

2

Date : 31/03



# Les nombres de 0 à 69

- Complète avec les signes  $<$  ou  $>$ .

$36 \text{ \_\_\_ } 63$

$37 \text{ \_\_\_ } 67$

$24 \text{ \_\_\_ } 42$

$35 \text{ \_\_\_ } 53$

$15 \text{ \_\_\_ } 51$

$60 \text{ \_\_\_ } 50$

$48 \text{ \_\_\_ } 68$

$69 \text{ \_\_\_ } 49$

$63 \text{ \_\_\_ } 36$

$65 \text{ \_\_\_ } 56$

$59 \text{ \_\_\_ } 49$

$53 \text{ \_\_\_ } 35$

- Range du plus petit au plus grand :

46 - 63 - 36 - 64 - 31 - 13 - 60

$<$    $<$    $<$    $<$    $<$    $<$

- Range du plus grand au plus petit :

65 - 52 - 24 - 42 - 35 - 56 - 60

$>$    $>$    $>$    $>$    $>$

- Trouve les nombres qui manquent dans chaque suite.

20 - 25 - \_\_\_\_\_ - 35 - \_\_\_\_\_ - \_\_\_\_\_ - \_\_\_\_\_ - \_\_\_\_\_ - \_\_\_\_\_

68 - 67 - 66 - \_\_\_\_\_ - \_\_\_\_\_ - \_\_\_\_\_ - \_\_\_\_\_ - \_\_\_\_\_ - \_\_\_\_\_

44 - 46 - 48 - \_\_\_\_\_ - \_\_\_\_\_ - \_\_\_\_\_ - \_\_\_\_\_ - \_\_\_\_\_ - \_\_\_\_\_