


Objectifs : Compter, lire et écrire les nombres de 95 à 99.

Calcul mental : Additionner ou soustraire 10 à des nombres inférieurs à 80.



Les nombres de 95 à 99

Combien y aura-t-il de bateaux dans le port lorsque tous seront rentrés ?



| | |
|-------|-------|
| d | u |
| | |


Il y aura bateaux dans le port.

Retiens bien



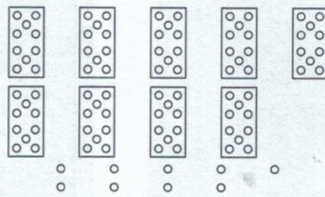
Colorie le matériel demandé, puis **écris** le nombre.

9 unités et 8 dizaines




.....

9 dizaines et 7 unités



.....

9 unités et 7 dizaines




.....

Écris le nombre qui vient juste avant et le nombre qui vient juste après.

..... < 98 < | < 89 < | < 90 < | < 91 <

Le coin du malin

Choisis dans la liste le bon nombre d'habitants de chaque village. Tu ne peux utiliser qu'une fois chaque nombre. 99 – 95 – 92 – 89



plus de 97 habitants

.....




moins de 90 habitants

.....



moins de 95 habitants

.....



plus de 90 habitants

.....