


Les nombres de 90 à 94

Activités : Compter, lire et écrire les nombres de 90 à 94.
Calcul mental : Partir de nombres finis par 0 ou 5 et demander l'action que l'on pouvait se conten-

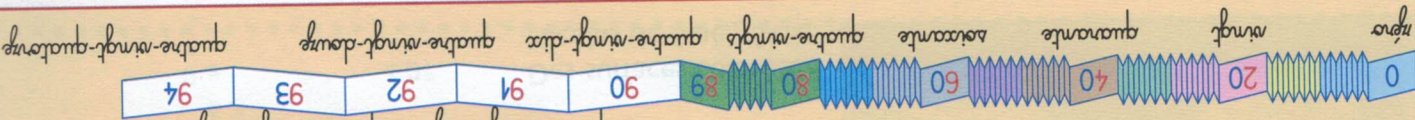
Arrête les pièces et les billets en trop pour payer toutes ces plantes. **Calcule** le prix à payer.



Il faut payer

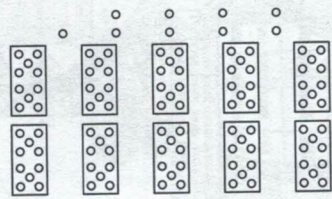
d	u

Retiens bien

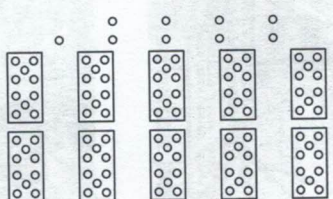


Colorie le matériel demandé, puis **écrits** le nombre.


9 dizaines et 2 unités



9 dizaines et 0 unités



2 dizaines et 9 unités



- 82
- 94
- 90
- 92

- quatre-vingt-dix
- quatre-vingt-deux
- quatre-vingt-quatorze
- quatre-vingt-douze

- 8 dizaines et 2 unités
- 9 dizaines
- 9 dizaines et 2 unités
- 9 dizaines et 4 unités

Relie les étiquettes qui portent les mêmes nombres.

Calcule chaque somme, puis **écris-la**.

