

1

Ecris la réponse des devinettes en choisissant la solution parmi les mots proposés :

Il coupe les cheveux.....

Il soigne les malades.....

Il pêche les poissons.....

Il organise des jeux.....

Il apporte le courrier.....

le directeur

le coiffeur

le facteur

le docteur

le moniteur

le pêcheur

2

Fais une phrase complète de réponse qui commence par « il y a »

Combien de crayons dans la main ?



→ Il y a _____

Combien de fleurs dans le vase ?

→ _____

Combien d'œufs dans le nid ?

→ _____



Si tu as fini ton travail :

3

Fais correspondre les contraires deux par deux

jeune

froid

chaud

malheureux

heureux

vieux

peureux



ensemble

tout seul

courageux

un peu

beaucoup



Je décompose les nombres de 50 à 59 :

$$\begin{aligned} 50 &= 50 + 0 = 10 + 10 + 10 + 10 + 10 \\ 51 &= 50 + 1 = 10 + 10 + 10 + 10 + 10 + 1 \\ 52 &= 50 + 2 = 10 + 10 + 10 + 10 + 10 + 2 \\ 53 &= 50 + 3 = 10 + 10 + 10 + 10 + 10 + 3 \\ &\vdots \\ 59 &= 50 + 9 = 10 + 10 + 10 + 10 + 10 + 9 \end{aligned}$$

5 d et 0 u
5 d et 1 u
5 d et 2 u
5 d et 3 u
⋮
5 d et 9 u




73. Les nombres de 0 à 59

Date

jouer avec les nombres

Trouver le nombre qui précède ou qui suit un nombre compris entre 0 et 60.

1. Complète.



2. Trace les flèches ou complète.

51	•	50 + 2	•	cinquante-quatre
...	•	... + ...	•	cinquante-deux
55	•	50 + 9	•	cinquante-neuf
...	•	... + ...	•	cinquante et un
59	•	50 + 1	•	cinquante-cinq

3. Écris le nombre qui vient juste avant et le nombre qui vient juste après.

..... 20

..... 39

..... 28

..... 41

..... 50

..... 57

4. Complète.

51	5 dizaines et 1 unité	10 + 10 + 10 + 10 + 10 + 1
	5 dizaine et 6 unités
..... dizaines et unités	10 + 10 + 10 + 10 + 10 + 4
57 dizaines et unité
.....	4 dizaines et 8 unités	10 + 10 + 10 + 10 + 8
..... dizaines et unités	10 + 10 + 10 + 9