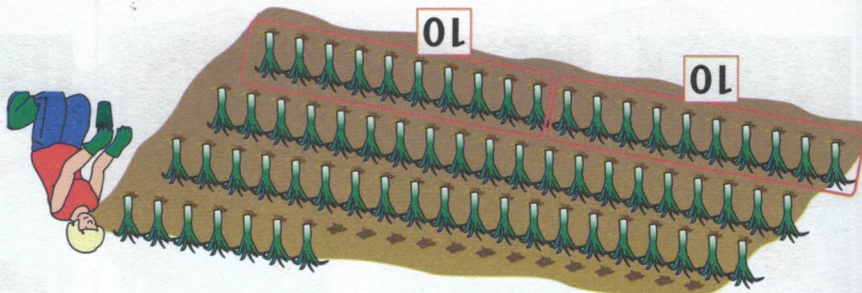


Les nombres de 80 à 84

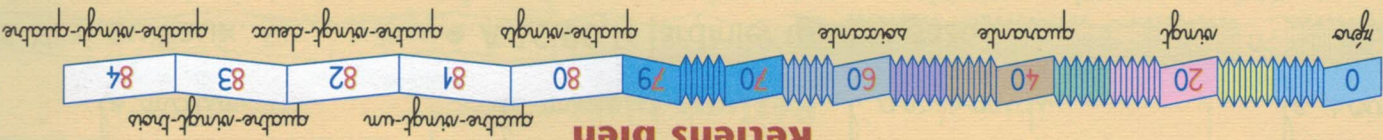
Objectifs : Compter, lire et écrire les nombres de 80 à 84.
Calcul mental : Enoncer des problèmes sur la somme et la différence. Les élèves écrivent sur l'ardoise l'addition ou la soustraction utilisée pour trouver le résultat. Faire le calcul collectif-ent après chaque exercice.

Observe le dessin, puis complète le tableau.




Nombre de plantes	d	u
1 rangée	2	0
2 rangées	20 + 20	4 0
3 rangées	20 + 20 + 20	
4 rangées	20 + + +	

Retiens bien



Colorie le matériel : 28 en orange et 82 en vert. Compte ce qui reste.



Il reste en blanc.

Relie les étiquettes qui portent les mêmes nombres.

81	●	quatre-vingt-un	●
83	●	quatre-vingt-trois	●
38	●	quatre-vingts	●
80	●	trente-huit	●

8 dizaines et 3 unités	●
8 dizaines	●
3 dizaines et 8 unités	●
1 unité et 8 dizaines	●

Complète les suites de nombres.

- de 2 en 2 : 60 84
- de 10 en 10 : 4 84
- de 2 en 2 : 83 59