

① Lis les mots. Classe-les dans le tableau. _____

un texte - dix - la boxe - un exemple - des veaux - six
peureux - un xylophone - expliquer - un exercice
un taxi - des hiboux - examiner - deuxième - deux

Je vois ∞		
J'entends le son [z]	J'entends le son [gz]	J'entends le son [ks]
_____	_____	_____
_____	_____	_____
_____	_____	_____
_____	_____	_____
J'entends le son [s]		Je n'entends pas ∞
_____	_____	_____
_____	_____	_____

② Lis les mots, puis entoure le son **x** que l'on n'entend pas.

exprès - la paix - un exemple - la croix - exotique
des choux - les ciseaux - la taxe - les oiseaux

③ Complète les phrases avec le mot qui convient :

extérieur - exposition - taxi - exceptionnelle

Nous allons faire la queue à l'..... du cinéma.

Pour aller à la gare, j'appelle un

Demain, papa nous amène voir une de sculpture.

La fête de fin d'année fut une journée

④ Sépare les mots dans la phrase suivante :

Un jour je serai un explorateur.

• Écris la phrase


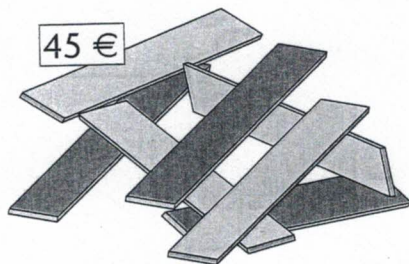


L'addition en colonnes (2)

Objectifs : Passer du calcul « manipulé » au calcul posé. Effectuer l'addition de 2 nombres avec retenue.

Calcul mental : Interrogation sur la connaissance de la table d'addition (avec et sans la table de Pythagore).

Monsieur et madame Bricola ont fabriqué une niche. Combien ont-ils dépensé pour les outils et les planches ?



	d	u
	2	8
+	4	5
=

Ils ont dépensé euros.

Retiens bien

Je pose l'addition.

$$\begin{array}{r} 19 \\ + 16 \\ \hline = \end{array}$$


J'additionne les unités.

$$9 + 6 = 15$$

$$\begin{array}{r} 1 \\ 19 \\ + 16 \\ \hline = 5 \end{array}$$

J'additionne les dizaines sans oublier la retenue.

$$\begin{array}{r} 1 \\ 19 \\ + 16 \\ \hline = 35 \end{array}$$



	d	u
	3	5

Complète les additions selon le modèle.

$$\begin{array}{r} \boxed{1} \\ 29 \\ + 31 \\ \hline = 60 \end{array}$$

$$\begin{array}{r} \boxed{} \\ 35 \\ + 46 \\ \hline = \dots\dots 1 \end{array}$$

$$\begin{array}{r} \boxed{} \\ 17 \\ + 53 \\ \hline = \dots\dots \end{array}$$

$$\begin{array}{r} \boxed{} \\ 56 \\ + 26 \\ \hline = \dots\dots \end{array}$$

$$\begin{array}{r} \boxed{} \\ 63 \\ + 28 \\ \hline = \dots\dots \end{array}$$

$$\begin{array}{r} \boxed{} \\ 48 \\ + 48 \\ \hline = \dots\dots \end{array}$$

Effectue les additions sans oublier la retenue quand elle existe.

$$\begin{array}{r} 37 \\ + 27 \\ \hline = \dots\dots \end{array}$$

$$\begin{array}{r} 44 \\ + 52 \\ \hline = \dots\dots \end{array}$$

$$\begin{array}{r} 53 \\ + 27 \\ \hline = \dots\dots \end{array}$$

$$\begin{array}{r} 28 \\ + 22 \\ \hline = \dots\dots \end{array}$$

$$\begin{array}{r} 37 \\ + 51 \\ \hline = \dots\dots \end{array}$$

$$\begin{array}{r} 68 \\ + 24 \\ \hline = \dots\dots \end{array}$$

Mon prénom :

Lecture 13

L'éléphant

* **Je lis et je coche les bonnes réponses.**

L'éléphant est un animal qui vit en Afrique et en Asie. L'éléphant africain a les oreilles bien plus grandes. En Asie les gens l'utilisent pour travailler car l'éléphant est très fort. Les éléphants peuvent attraper beaucoup de choses grâce à leur trompe qui leur sert de main. Ils adorent manger des fruits mais aussi de l'herbe. Ils ne mangent jamais de viande.

Où vit l'éléphant ?

en Amérique en Asie en Afrique

Dans quel pays fait-on travailler l'éléphant ?

en Afrique en Italie en Asie

Quel éléphant a les plus grandes oreilles ?

l'éléphant d'Afrique l'éléphant d'Asie

Que mange l'éléphant ?

de la viande des fruits de l'herbe